

GEOGRAPHIE

CLASSE SECONDA

L'EUROPE

LE ROYAUME-UNI

L'ESPAGNE

Nom :

Classe :

Année scolaire 2020-2021

TABLE DES MATIERES

Présentation générale de l'Europe	3
Les Etats de l'Europe	4
La géographie physique de l'Europe A) Les limites naturelles B) L'hydrographie C) Les climats	6
La diversité culturelle	12
La population	17
Villes et réseaux de communication	23
Les inégalités de richesse	23
La construction européenne A) Bref historique B) La construction de l'Union européenne	24
Le Royaume-Uni	31
L'Espagne	48

PRESENTATION GENERALE DE L'EUROPE

Questions préparatoires :

- 1) Connaissez-vous l'origine du mot « Europe » ?
- 2) Doit-on parler d'Europe ou d'Eurasie ?
L'Europe est-elle vraiment un continent ?
- 3) L'Europe et l'U.E (Union Européenne) sont-elles synonymes
l'une de l'autre ?
- 4) Que signifie « euro-centrique » ?
- 5) Selon vous, est-il facile de présenter l'Europe ? Pourquoi ?
- 6) Connaissez-vous le mythe d'Europe ? (livret « Paysages européens » p10)

LES ETATS DE L'EUROPE

Exercice

Donnez le nom, précédé de l'article, des pays représentés (utilisez des numéros).



Indiquez les capitales des différents pays d'Europe (utilisez des numéros).



Jeux de révision sur les capitales

<http://online.seterra.net/fr/ex/23>

http://www.jeux-geographiques.com/jeux-en-ligne-l-Union-europeenne-pour-le-Brevet-_pagei_d291.html

sur les pays :

<http://serbal.pntic.mec.es/ealg0027/europa3f.html>

GEOGRAPHIE PHYSIQUE DE L'EUROPE

A) Les limites naturelles

Les frontières maritimes et terrestres de l'Europe :

Des océans, des mers, et des chaînes de montagnes (utilisez la carte du livret p 12).



Vocabulaire :

est bordé par, est séparé de, au nord de, au sud de, à l'est de, à l'ouest de, relier, séparer.

Exercice :

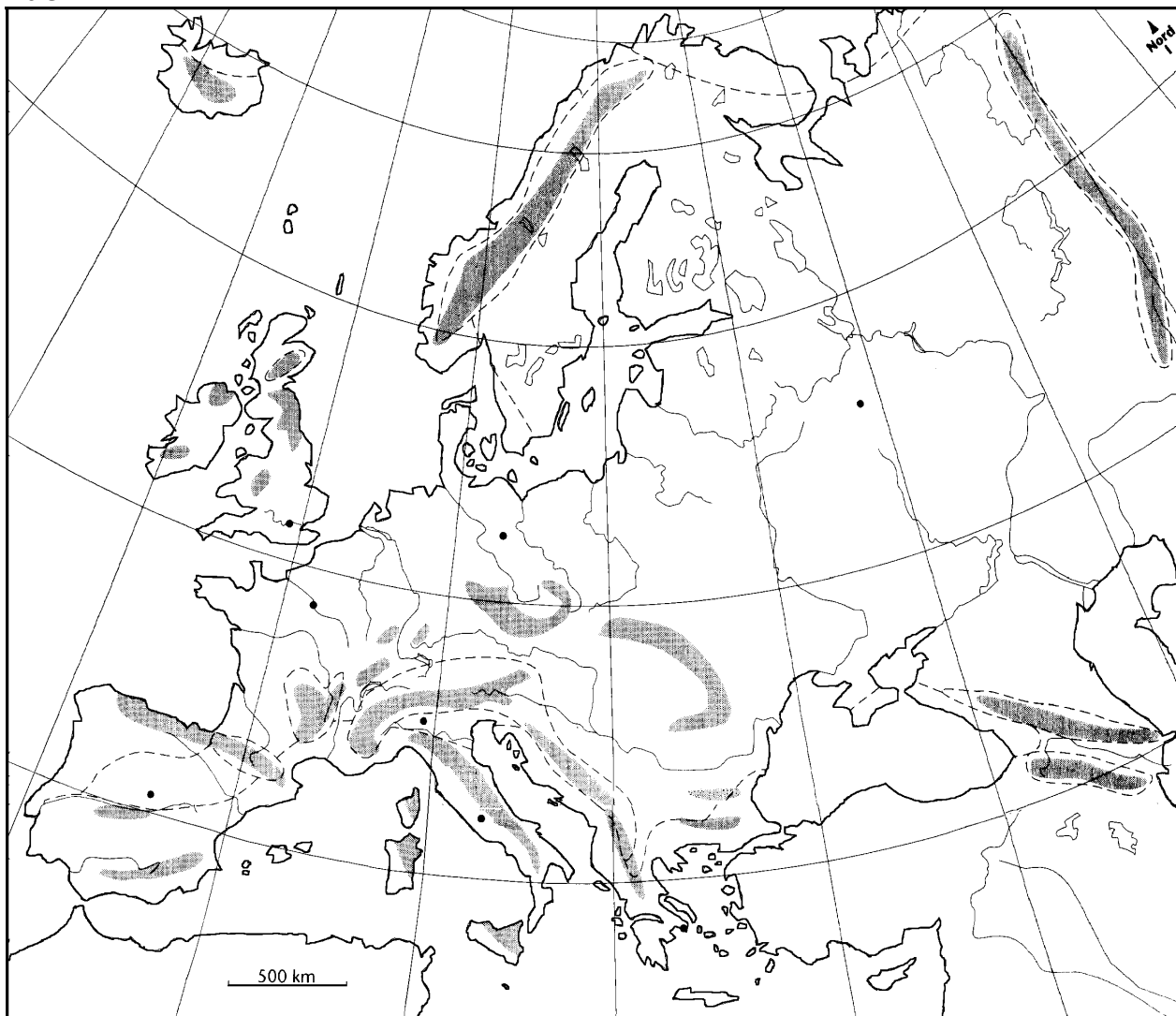
1) A l'aide de la carte du relief de l'Europe de la page 12 de votre livret, expliquez la répartition du relief en Europe, la disposition des plaines et des montagnes.

2) Complétez le tableau récapitulatif suivant :

Plaines	
Montagnes Vieilles	
Montagnes Jeunes	

Exercice :

- 1) Complétez la carte ci-dessous.
- 2) Faites une légende. (Donnez aussi le titre et indiquez par une ligne rouge la division entre l'Europe et l'Asie)
- 3) Quelles observations pouvez-vous faire sur cette carte ?
- 4) Quelles conclusions pouvez-vous en tirer ? (Livret p 12-17, « Les grands ensembles du relief »)

Titre :

B) L'hydrographie en Europe

Exercice :

1) Repassez en bleu les fleuves représentés sur la carte.

2) Les principaux fleuves :

Où prennent-ils leur source ? Quels pays et quelles capitales traversent-ils ? Où se jettent-ils ? Comment se jettent-ils ? (estuaire / delta)

- ① la Volga ② le Dniepr ③ la Vistule ④ l'Oder ⑤ l'Elbe ⑥ le Danube ⑦ le Don
 ⑧ le Rhin ⑨ la Seine ⑩ la Loire ⑪ la Garonne ⑫ le Rhône ⑬ l'Ebre
 ⑭ le Tage ⑮ le Pô ⑯ le Tibre.



Une curiosité :



C) Le climat de l'Europe (livret p 18-23)

Exercice :

- 1) Dans quelle zone climatique du globe se trouve l'Europe ?
- 2) Combien de climats observez-vous en Europe ?
- 3) Complétez le tableau ci-dessous.

Nature du climat	Températures	Précipitations	Pays concernés	Végétation

Description de paysages européens (livret p 18 à 25 et p32 à 37)

Sites interactifs pour contrôler vos connaissances :

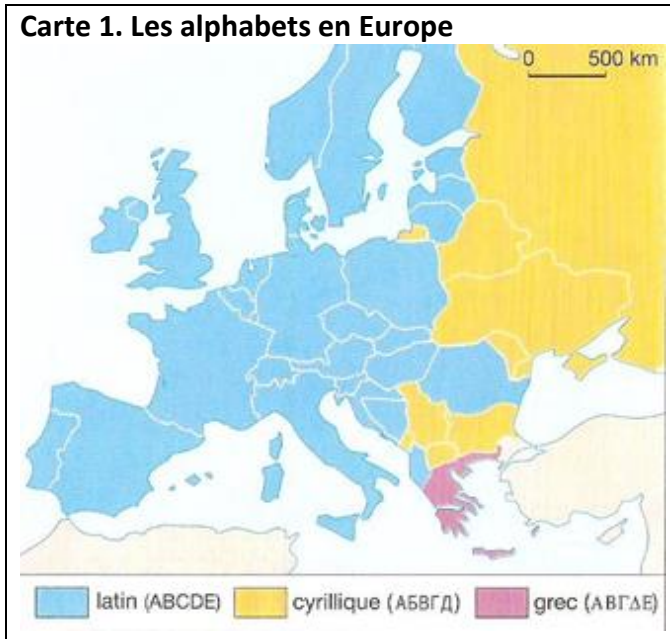
<https://www.quizz.biz/quizz-421125.html>

<https://www.mesexercices.com/exercices/exercice-culture-2/exercice-culture-37391.pp>

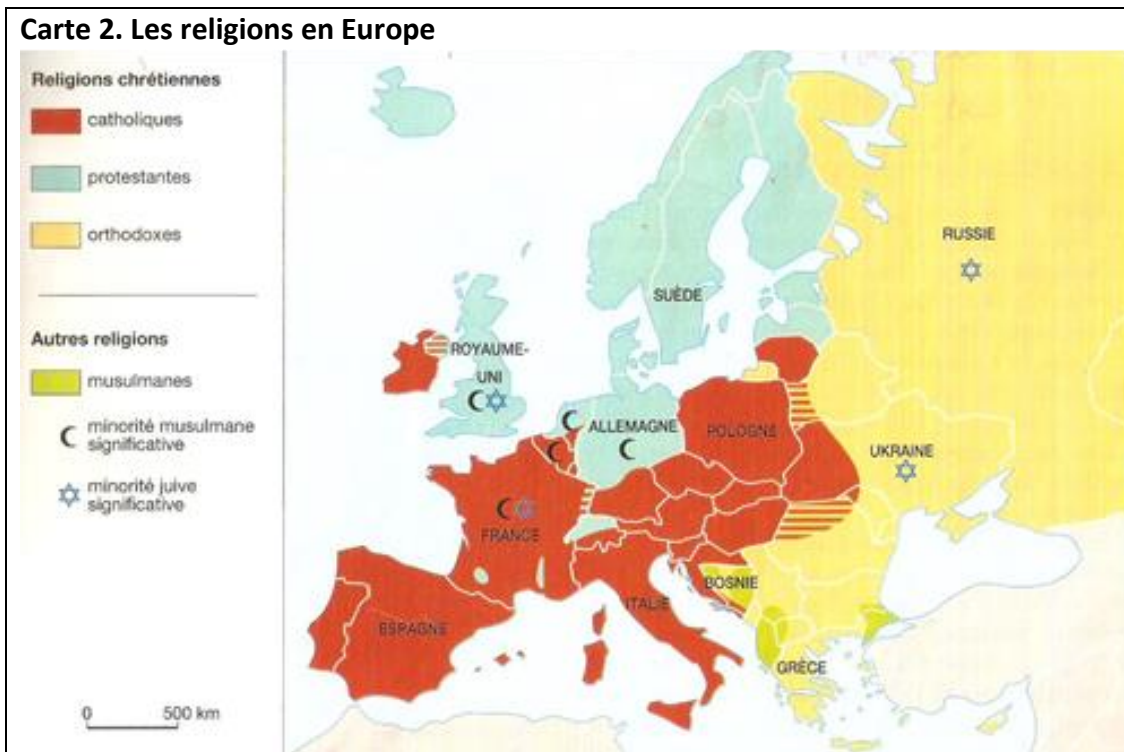
<http://tnquiz.tableau-noir.net/pages/quizgeographie.html>

LA DIVERSITE CULTURELLE DE L'EUROPE

Carte 1. Les alphabets en Europe



Carte 2. Les religions en Europe



Carte 3. Les langues en Europe

**EXERCICE :****1) Carte 2 :**

Où sont implantées les religions chrétiennes et les religions non-chrétiennes ?

2) Carte 3 :

a) Dans quels états parle-t-on une langue latine ?

b) Qu'est-ce qui l'explique ?

c) Où sont situés les peuples de langue slave ?

d) Quel est le point commun de l'allemand, de l'anglais et du suédois ?

3) En quoi consiste la diversité culturelle de l'Europe ?**4) Entendez-vous cette diversité comme un point faible ou un point fort de l'Europe ?**

L'Europe est un des plus anciens foyers de peuplement du monde. Elle est composée d'une grande diversité de peuples qui parlent près de **60 langues différentes** et utilisent **trois alphabets**. Non seulement **l'Europe est un carrefour de langues**, qui ont des origines communes, mais **l'Europe est aussi un carrefour culturel**. La civilisation gréco-latine s'est diffusée sur l'ensemble du continent. D'autres cultures maintiennent leur empreinte : la culture slave à l'est, la culture anglo-saxonne au nord-ouest. De plus, l'influence arabe ou turque a laissé des traces profondes en Espagne et dans les Balkans. Cette diversité ethnique mais aussi les divisions religieuses ont souvent été une source de conflits et de guerres au cours de son histoire.

Comme dans de nombreux autres domaines, **l'Europe est également fragmentée et complexe du point de vue religieux**.

Berceau de la civilisation européenne, la Méditerranée a vu naître les **trois monothéismes**, les religions du livre. Jérusalem est considérée « trois fois sainte » car la ville représente un lieu sacré pour les religions juive et chrétienne (Mur occidental ou Mur des Lamentations pour les juifs, église du Saint Sépulcre pour les chrétiens) et abrite le plus ancien monument de l'Islam (VIIème siècle), son troisième lieu saint, le « Dôme du rocher », qui se trouve derrière le Mur des Lamentations.

L'Europe est le **principal foyer du christianisme** ; celui-ci a accompagné sa croissance et son expansion, devenant mondial après 1492 ; les trois chrétientés d'Europe rassemblent les catholiques, les orthodoxes et les protestants.

Cependant le christianisme n'est pas la seule religion européenne. En Bosnie-Herzégovine et en Albanie, la majorité de la population est musulmane et les fidèles de l'Islam représentent 18% de la population serbe ou 25% de celle de la Macédoine. En effet, leurs ancêtres ont été convertis sous le règne ottoman et se différencient en cela des communautés musulmanes issues de l'immigration. Remarquons que l'entrée de la Turquie dans l'U.E. augmenterait fortement la population européenne musulmane, puisque le pays compte une population de 71 millions d'habitants dont 95% se définissent comme musulmans. Le fait que la Turquie soit « *un pays musulman, incompatible avec les racines chrétiennes communes* » de l'Europe est l'argument le plus souvent cité pour s'opposer à une éventuelle adhésion turque à l'U.E.

Par ailleurs, d'importantes communautés **juives** sont disséminées à travers toute l'Europe : Grande-Bretagne, Allemagne, France, Belgique, Italie, Russie, Ukraine ...

Cependant, beaucoup d'Européens sont aujourd'hui **indifférents à la religion**. Malgré cette diversité les populations ont une **histoire et un héritage culturel communs** qui les rapprochent.

Document.**Les héritages culturels communs des Européens**

« Eh bien, je considérerai comme européens tous les peuples qui ont subi au cours de l'histoire ces trois influences que je vais dire : la première est celle de Rome. Partout où l'Empire romain a dominé, partout où la majesté des institutions et de la loi a été reconnue, copiée, là est quelque chose d'européen et stable.

Vint ensuite le christianisme, qui s'est peu à peu répandu dans l'espace même de la conquête romaine.

Ce que nous devons à la Grèce est peut-être ce qui nous distingue le plus profondément du reste de l'humanité : nous lui devons une méthode de pensée qui tend à rapporter toutes choses à l'homme, à l'homme complet. De cette discipline, la science devait sortir. Il y eut des arts de tous les pays, il n'y eut de véritables sciences que d'Europe. »

Paul Valéry, *Variété*, Ed. Gallimard, 1924.

Exercice :

- 1) Présentez le document.
- 2) Selon l'auteur, l'Europe a reçu 3 influences culturelles majeures. Lesquelles ?
- 3) Placez ces 3 influences dans l'ordre chronologique.
- 4) Ce texte peut être critiqué :
 - montrez à travers des exemples que tous les pays européens ne sont pas chrétiens.
 - citez un pays qui n'a pas connu l'influence grecque ou romaine.
 - quelles autres influences ont aussi connues les pays européens ?

Complétez le tableau ci-dessous :

Les influences culturelles	Leur apport (exemples concrets et nombreux)

Les familles linguistiques en Europe : coloriez les différentes langues indo-européennes

Langues indo-européennes

- romane
- germanique
- slave
- autre

Langues finno-ougriennes



Autres langues



Les principales religions européennes : complétez la légende de la carte ci-dessous.

Religions chrétiennes

-
-
-

Autre religion

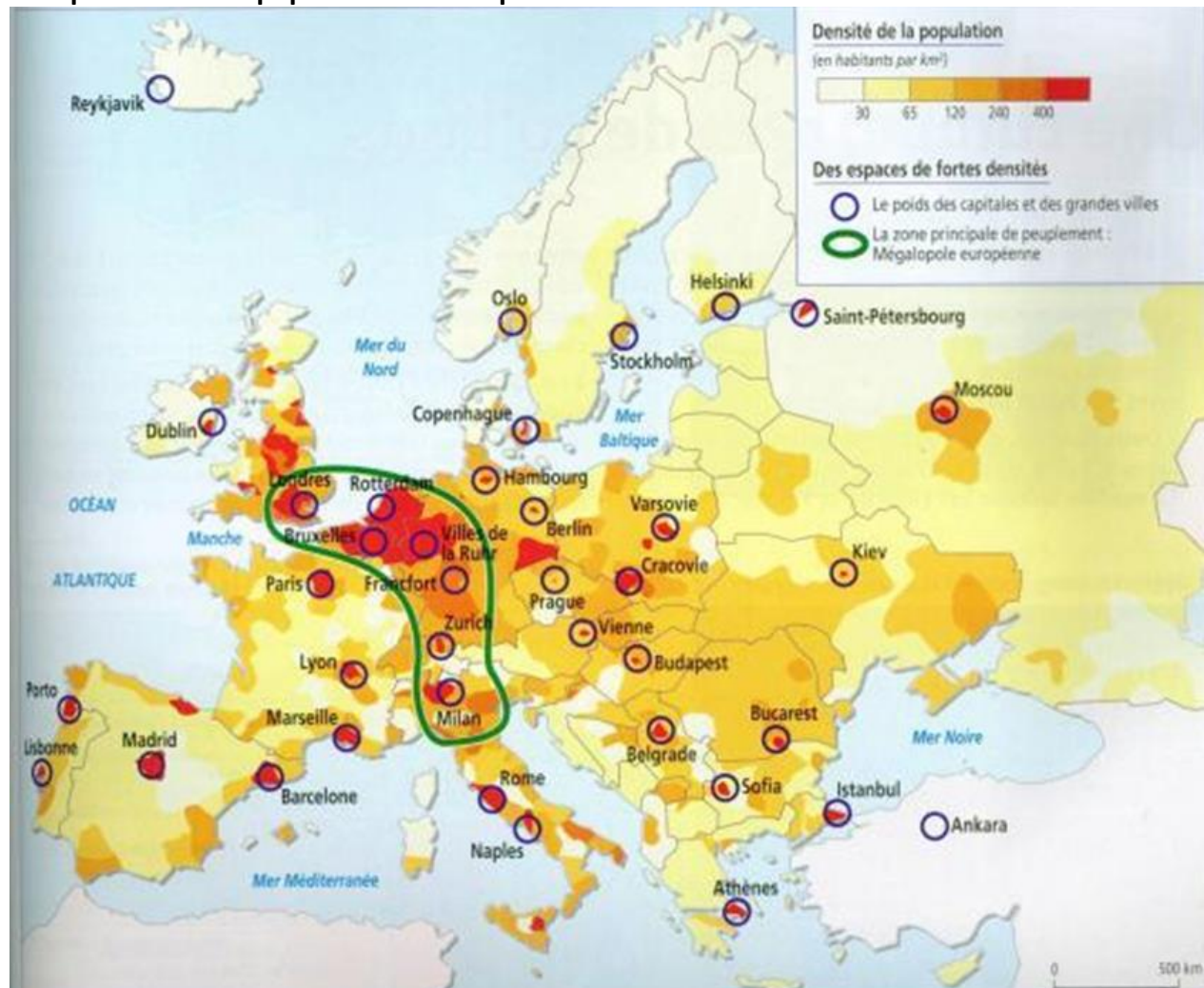
-



LA POPULATION EUROPEENNE (livret p 26-31)

Rappelez la définition de **FOYER DE POPULATION** et dites où se situe l'Europe parmi les foyers de population du monde.

La répartition de la population en Europe



Exercice :

- 1) Présentez le document puis dites si la population est répartie de façon uniforme (pensez aux contraintes naturelles).
- 2) Indiquez les zones de forte densité, de faible densité et de densité moyenne et trouvez une explication à ces différences.
- 3) Qu'appelle-t-on Mégalopole européenne ?
- 4) Quels pays recouvre cette « dorsale de peuplement » ? Pouvez-vous justifier cette densité ? Comment se caractérisent les densités de population de part et d'autre de cette dorsale ?

La Mégalopole européenne

« Du Lancashire à la Toscane se trouvent une très forte densité de population et de villes, les plus fortes productions de richesse, les plus forts trafics commerciaux d'Europe ».

L'héritage historique : l'ancienneté du commerce

« La dorsale [mégapole] est née des échanges commerciaux intensifs depuis le Moyen Âge entre les deux grands foyers d'activité de la mer du Nord et de la Méditerranée ».

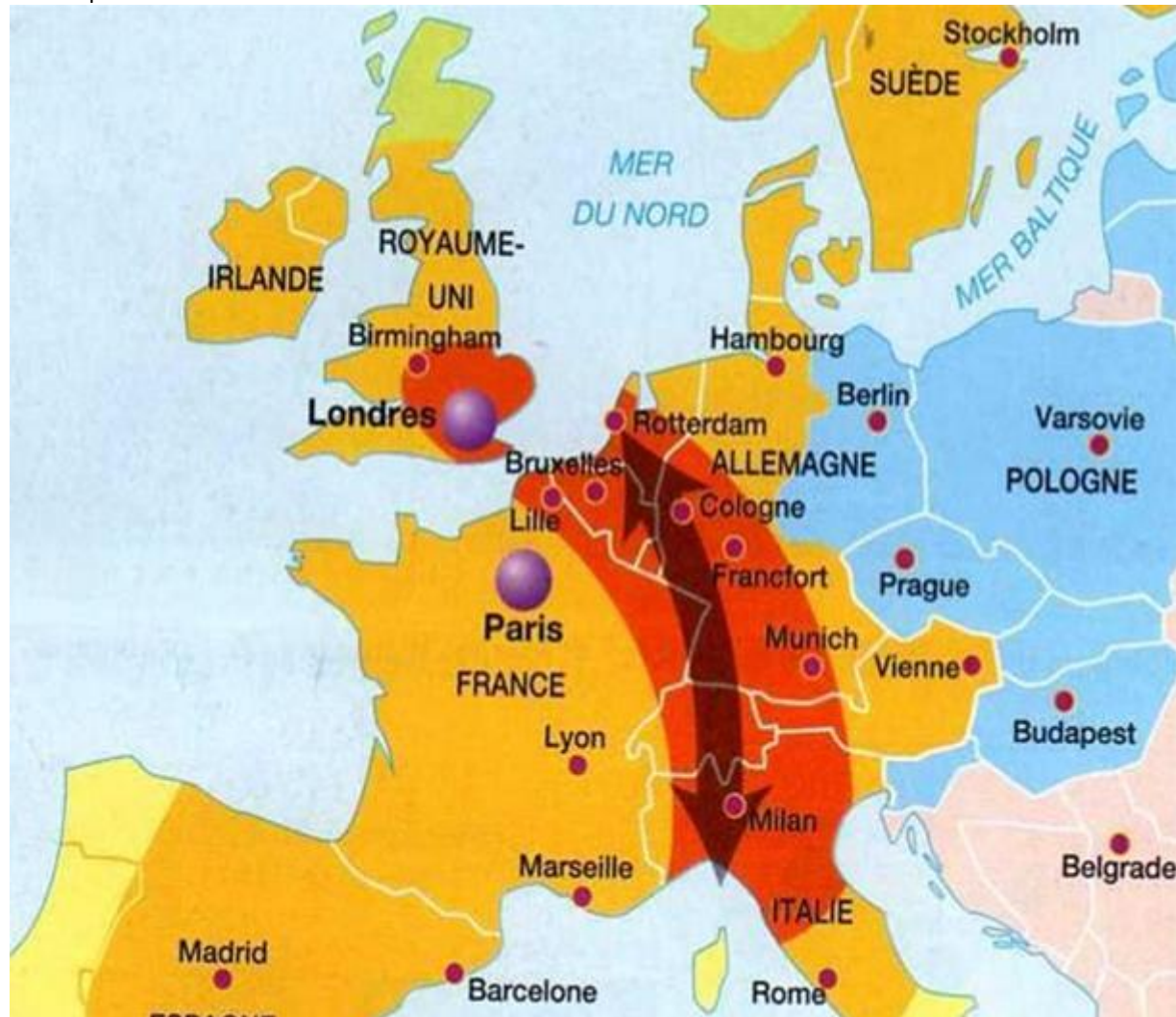
R. Brunet, *Lignes de force de l'espace européen*, Mappemonde n°66, 2002.

Le rôle de l'industrie :

« La carte des fortes densités européennes regroupe encore largement celle des anciens gisements de charbon exploités au XIXe siècle »

Guy Baudelle, *Géographie de peuplement*, Armand Colin, 2003.

L'Allemagne appartient à la mégapole européenne et y occupe une place privilégiée car elle en est le cœur. Elle dispose d'un réseau très dense de voies de communication ; les autoroutes, très nombreuses, ouvrent sur tous les pays voisins. La vallée du Rhin est un grand axe de circulation qui relie l'Allemagne à l'Europe du Sud et à l'Europe du Nord.



Dans la région de la Ruhr, Duisbourg (Allemagne) est le 1^{er} port fluvial européen.



Exercice :

Repérez les bassins portuaires, les cuves de stockage du pétrole, les usines chimiques et les péniches pour le transport fluvial.

TRAVAIL DE RECHERCHE ET D'EXPOSES SUR LE SITE

<https://www.ined.fr/fr/tout-savoir-population/graphiques-cartes/migrations-monde/>

Un peuplement inégal

1) L'Europe est un continent très peuplé avec près de **735 millions d'habitants**. Mais le peuplement est très inégal. La population est très **nombreuse de l'Angleterre au nord de l'Italie** en passant par l'Allemagne, avec des densités de population dépassant en général 300 habitants au km². Cet espace est appelé « dorsale européenne » ou **mégalopole européenne**. Le fort peuplement y est dû surtout à l'ancienneté et à l'importance des activités marchandes et industrielles. En dehors de la mégapole, les Européens sont surtout concentrés dans les grandes vallées fluviales et le long des littoraux.

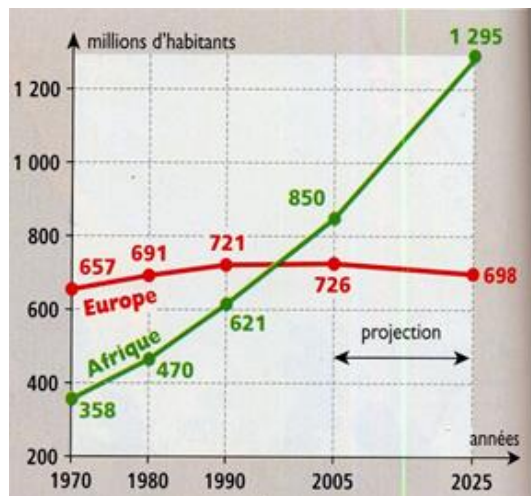
2) Les **régions les moins peuplées** sont les régions du **nord de l'Europe** et les **hautes montagnes**, où les contraintes naturelles (froid, pentes) sont un obstacle à l'occupation humaine. Les **montagnes d'altitude moyenne** ont aussi de faibles densités de population : le déclin de l'agriculture et le manque d'activités de remplacement y ont fait fuir les habitants.

Une population qui n'augmente plus

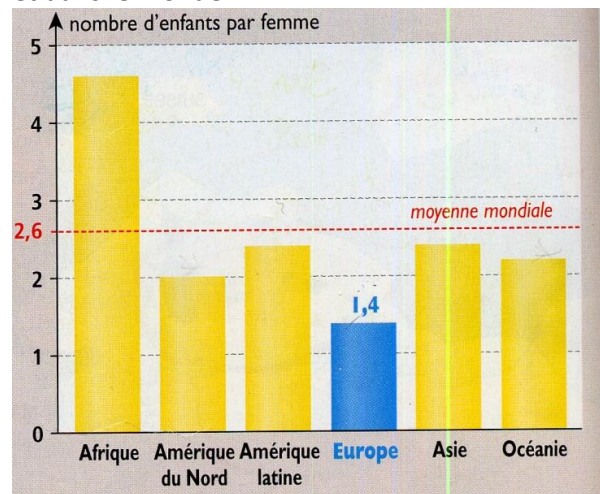
Aujourd'hui, la **population européenne diminue** légèrement alors que la population mondiale progresse de 1,2 % par an et celle de l'Afrique de 2,2 %. Cela s'explique par la faible **fécondité** (définition ?) des femmes : en Europe, elles n'ont que 1,4 enfant en moyenne dans leur vie. Les

naissances sont donc moins nombreuses que les décès. **L'âge moyen des Européens est de plus en plus élevé.** En effet, l'Europe est le continent où la **part des moins de 15 ans** dans la population est la plus faible : ces derniers représentent 15% de la population européenne alors qu'ils forment 42% de la population africaine (2005). En même temps, les personnes de plus de 60 ans sont de plus en plus nombreuses du fait de l'allongement de **l'espérance de vie** (définition ?) (78 ans pour les hommes et 80 ans pour les femmes) et de l'arrivée à cet âge des classes d'âge nombreuses, nées après la guerre.

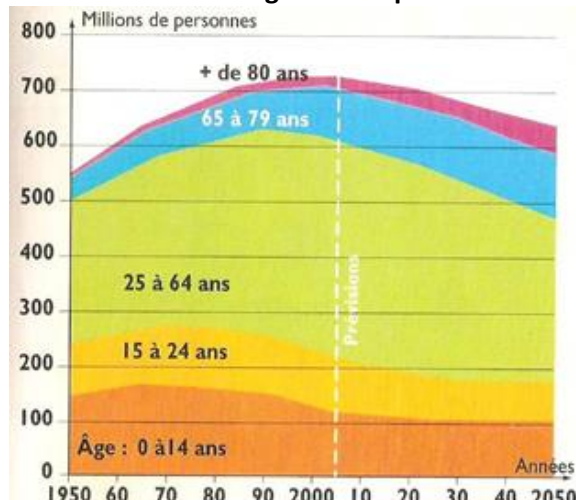
Doc 1. La population européenne et africaine



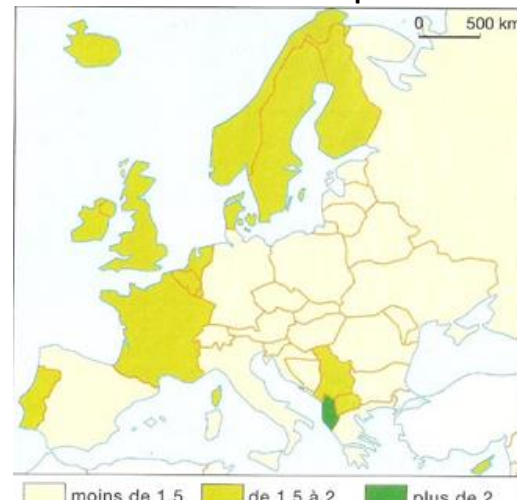
Doc 2. Le nombre d'enfants par femme en Europe et dans le monde.



Doc 3. Les classes d'âge en Europe



Doc 4. Le nombre d'enfants par femme



Exercice :

- 1) Comparez les deux courbes et expliquez en quoi consiste la « projection ». (doc 1)
- 2) Décrivez et expliquez l'évolution des populations d'Afrique et d'Europe. (doc 1)
- 3) Comment a évolué chaque classe d'âge de 1950 à 2005 ? (doc 3)
- 4) Comment devrait évoluer la population des plus de 65 ans de 2005 à 2050 ? Expliquez pourquoi. (doc 3)
- 5) Quelle est la situation la plus répandue en Europe ? (doc 4)
- 6) Quelle est la situation de la France et de l'Italie ? (doc 4)

DOSSIER PYRAMIDE DES ÂGES : livret p 44-45

Natalité : la France en tête de l'Europe des 27 en 2009

En 2009, la France est devenue la championne d'Europe de la natalité : avec un indicateur conjoncturel de fécondité de 1,99 enfant par femme, elle s'impose aisément en tête de l'Europe des 27. La France confirme ainsi sa singularité au sein de l'Union Européenne : depuis une dizaine d'années, la plupart des pays européens sont confrontés à une grave crise de la natalité.

Les pays du Sud sont les plus touchés : en Espagne, en Italie, au Portugal ou en Grèce, l'indicateur de fécondité stagne autour de 1,4 enfant par femme. L'Europe de l'Est (Hongrie, Pologne, Roumanie, Slovaquie) affiche des taux très bas. Seuls les pays nordiques (Danemark, Finlande, Pays-Bas, Suède) tirent **leur épingle du jeu**¹, même si leur fécondité n'atteint pas celle de la France.

Si la fécondité française est en pleine forme, elle varie considérablement en fonction des milieux sociaux, comme le souligne l'Institut national des études démographiques (INED). Premier constat : le niveau d'études a des conséquences importantes sur la fécondité. En 2008, les « sans diplôme » affichaient ainsi un indicateur de 2,5 enfants par femme, contre 1,8 pour les **bachelières**² et les diplômées du supérieur. Parmi les femmes sans enfants (13% des générations nées dans les années 1960), les diplômées du supérieur sont **surreprésentées**³.

Le Monde, 15 janvier 2011.

¹ **tirer son épingle du jeu** : se tirer adroitement d'une affaire difficile, se dégager d'une situation délicate ;

² **bachelières** : les jeunes filles qui possèdent le diplôme du baccalauréat ;

³ **surreprésentées** : très bien, presque trop, représentées.

Questions :

- 1) Comment se situe la France en ce qui concerne le taux de natalité ? Confirme-t-elle ou non la situation de l'Union Européenne ?
- 2) Quels sont les pays européens avec les taux de fécondité les plus bas/hauts ? Faites une hypothèse.

Une Europe qui attire : livret p 29

Depuis un siècle, l'Europe de l'Ouest **attire les immigrants** du fait de son haut niveau de vie. De 1945 à 1975, elle a accueilli beaucoup d'immigrants d'Afrique, d'Asie ou d'Europe du Sud à la recherche d'un travail à une époque où l'Europe avait besoin de main d'œuvre. Depuis 1974, les **migrations** vers l'Europe occidentale sont moins importantes à cause du chômage dans les pays d'accueil et des mesures prises pour limiter l'immigration (loi Pasqua...) Elles continuent cependant de façon légale (regroupement familial, asile politique) ou illégale avec le développement d'une **immigration clandestine**.

Depuis les années 1990, l'effondrement du communisme et la disparition du rideau de fer, l'origine des migrants se diversifie aussi avec de nouveau **flux migratoires** en provenance de l'Europe centrale et orientale.

L'immigration, principal moteur de croissance de la population

32 millions d'étrangers (soit 6,6 % de la population) vivaient dans les Etats membres de l'UE des 27 en 2010, sur une population totale de 500 millions d'habitants. L'immigration représente la part la plus importante de la croissance de la population de l'UE.

VOCABULAIRE :

Emigrer : quitter son pays pour aller s'installer dans un autre pays

Un flux migratoire : une circulation de migrants

Un immigré clandestin : celui qui est venu s'installer dans un pays sans avoir reçu l'autorisation du pays d'accueil.

Immigrer : venir s'installer dans un pays

Une migration : le déplacement d'une population

Recherche sur l'immigration à partir du site : <http://www.lemonde.fr/immigration-en-europe/>

Le périple des migrants sur la route des Balkans 2015 :

<http://www.slate.fr/story/106165/immigration-route-balkan-carte-graphique>

VILLES ET RESEAUX DE COMMUNICATION (livret p 40-43)

Vocabulaire :

Le réseau, le nœud de communication, les axes routiers, ferroviaires, aériens, maritimes.
Carrefour - relier – obstacle – entraver – freiner – gêner – pont – tunnel - viaduc.

LES INEGALITES DE RICHESSE (livret p 46-51)

A l'échelle de la planète, **l'Europe fait figure de continent riche** : forte production, **PIB¹** par habitant et **IDH²** élevés.

Mais il **existe de grandes différences de richesse entre les pays** de l'Europe de l'Ouest et ceux de l'Europe centrale et orientale récemment sorties du communisme. Les différences ne se font pas seulement sentir entre les pays mais aussi à l'intérieur de chacun, entre les régions (inégalités régionales) et entre les habitants (inégalités sociales).

¹ **PIB** : Produit Intérieur Brut., c'est-à-dire la richesse produite à l'intérieur d'un pays.

² **IDH** : Indicateur de Développement Humain. L'indicateur qui rend compte du niveau de vie et de la population d'un pays. Il est calculé à partir du PIB par habitant, de l'espérance de vie, du niveau d'alphabétisation et de scolarisation.

Sur les Champs Elysées, Paris



Les pauvres à Moscou



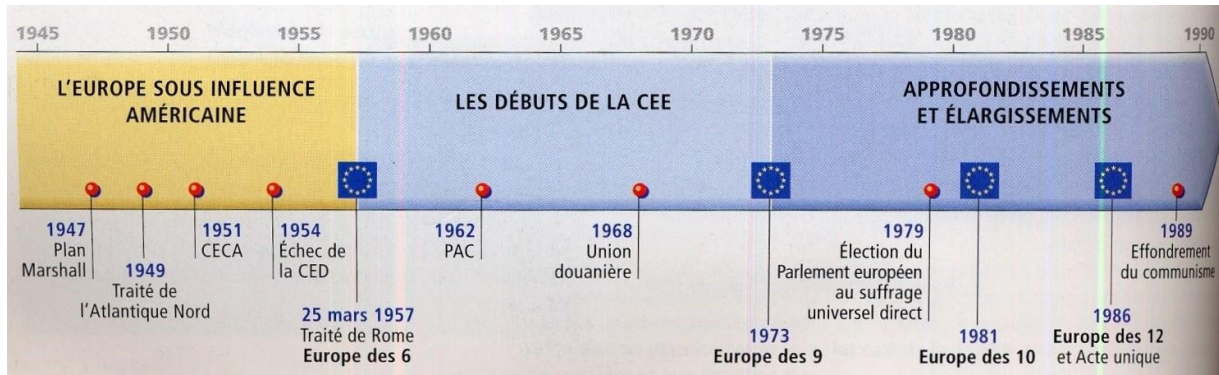
Exercice :

- 1) Faites une description minutieuse de ces deux photographies en mettant en évidence le message que chacune d'entre elles veut transmettre.
- 2) Rédigez un petit paragraphe de synthèse sur les disparités de richesse en Europe.

LA CONSTRUCTION EUROPEENNE

Lien (cliquez sur « Dossier Union Européenne »)
<http://www.legendes-cartographie.com/interactif>

A) Bref historique de la construction européenne (livret p 52 à 57)



Les premiers élargissements de l'Europe

De 1957 à 1995, la Communauté s'est élargie à presque tous les autres pays d'Europe de l'Ouest. Depuis 1973, elle s'est élargie à 12 puis à 15 membres. En **1989, la chute du mur de Berlin** bouleverse les données géopolitiques de l'Europe ; la **réunification de l'Allemagne (1990)** fait entrer l'ex-RDA dans la CEE, elle s'est ensuite élargie à l'Est, y compris à d'anciens pays communistes.

L'acte unique européen signé en **1986** sous l'impulsion de *Jacques Delors*, président français de la Commission européenne, fixe l'achèvement du marché unique au **1^{er} janvier 1993**, qui devient alors le plus grand marché sans frontières de la planète. Le traité signé à **Maastricht en 1992** (p 53) institue l'**Union Européenne (U.E)**. Il définit la citoyenneté de l'Union et prévoit la création de la monnaie unique. La Banque centrale européenne (**BCE**) se trouve à Francfort.

L'U.E. est d'abord un espace **de libre-circulation pour les hommes, les marchandises et les capitaux** ; au sein de l'Union, il n'y a plus de taxes douanières et la monnaie commune favorise les échanges. Signalons que la **Convention de Schengen** (au Luxembourg, 1985) permet aux citoyens des Etats (Irlande et Royaume-Uni exceptés), auxquels s'associent l'Islande et la Norvège, de circuler librement dans un espace sans frontières intérieures. Mais son application est compliquée, en raison des flux migratoires clandestins, de la criminalité et du terrorisme.

L'U.E. aide aussi financièrement les régions et les pays pauvres de la Communauté pour qu'ils développent leur économie et rattrapent leur retard. Enfin, elle conduit des politiques communes dans divers domaines comme celui de l'agriculture (PAC), de la culture, des transports, de la police, de la justice (pensez-vous à un secteur sans politique commune ?).

Exercice (doc 4 p 9 sur le livret) :

- 1) Identifiez les 4 périodes historiques.
- 2) Commentez les langues de chaque étendard.
- 3) Quels territoires sont compris dans l'Europe pour chaque cas ?
- 4) Pour chaque cas, quelles sont les armes utilisées pour faire l'Europe ?

Les étapes de la construction européenne	
<p>1950. Déclaration Schuman, proposant de créer la Communauté européenne du charbon et de l'acier (CECA).</p> <p>1951. Création de la CECA par la Belgique, les Pays-Bas, le Luxembourg (Benelux), la RFA (République Fédérale d'Allemagne), l'Italie et la France.</p> <p>1957. Création de la Communauté Economique Européenne (CEE) et d'Euratom par le Traité de Rome, c'est la naissance de l'Europe des Six.</p> <p>1962. Lancement de la Politique agricole commune (PAC).</p> <p>1968. Union douanière et application d'un tarif douanier commun.</p> <p>1973. Europe des Neuf avec le Danemark, le Royaume-Uni et l'Irlande.</p> <p>1979. Première élection du Parlement européen au suffrage universel direct.</p> <p>1981. Europe des Dix avec la Grèce (élargissement méditerranéen).</p>	<p>1986. Europe des Douze avec l'Espagne et le Portugal. Acte unique européen qui autorise la libre circulation des marchandises, des capitaux et des hommes et permettra l'avènement du grand marché unique en 1993.</p> <p>1992. Traité de Maastricht qui définit les étapes de l'Union économique et monétaire (UEM), notamment la création de l'euro. On parle désormais d'Union Européenne.</p> <p>1995. Europe des Quinze avec l'Autriche, la Finlande et la Suède.</p> <p>2002. Mise en circulation de l'euro dans les douze pays de la zone euro.</p> <p>2004. Europe des Vingt-cinq avec Chypre, Malte, l'Estonie, la Lettonie, la Lituanie, la Hongrie, la Pologne, la République Tchèque, la Slovaquie et la Slovénie ; traité de Rome II, signature du traité constitutionnel.</p> <p>2007. Union Européenne à 27 avec l'entrée de la Bulgarie et de la Roumanie.</p> <p>2013. Union à 28, avec l'entrée de la Croatie.</p> <p>Janvier 2020 : Sortie du Royaume-Uni de l'UE</p>

<p>Document.</p> <p>La construction européenne s'ouvre à l'Est</p> <p>Le Conseil européen s'est félicité des efforts courageux entrepris par les pays associés pour moderniser leurs économies affaiblies par 40 ans de planification centralisée et pour assurer une transition rapide vers une économie de marché. La Communauté et ses Etats membres promettent leur soutien à ce processus de réforme. La paix et la sécurité en Europe dépendent du succès de ces efforts.</p> <p>Le Conseil européen est convenu aujourd'hui que les pays associés d'Europe centrale et orientale qui le désirent pourront devenir membre de l'Union européenne. L'adhésion aura lieu dès que le pays associé sera en mesure de remplir les obligations qui en découlent, en remplissant les conditions économiques et politiques requises.</p> <p>L'adhésion requiert de la part du pays candidat qu'il ait des institutions stables garantissant la démocratie, la primauté du droit, les droits de l'homme, le respect des minorités et leur protection, l'existence d'une économie de marché viable ainsi que la capacité de faire face à la pression concurrentielle et aux forces du marché à l'intérieur de l'Union [...] La capacité de l'Union à assimiler de nouveaux membres tout en maintenant l'élan de l'intégration européenne constitue également un élément important.</p> <p>Conseil européen de Copenhague, 21-22 juin 1993.</p> <p>Exercice :</p> <p>Expliquez les trois expressions écrites en caractères gras.</p>
--

B) La construction de l'Union Européenne : de 1957 à 2013



Exercice

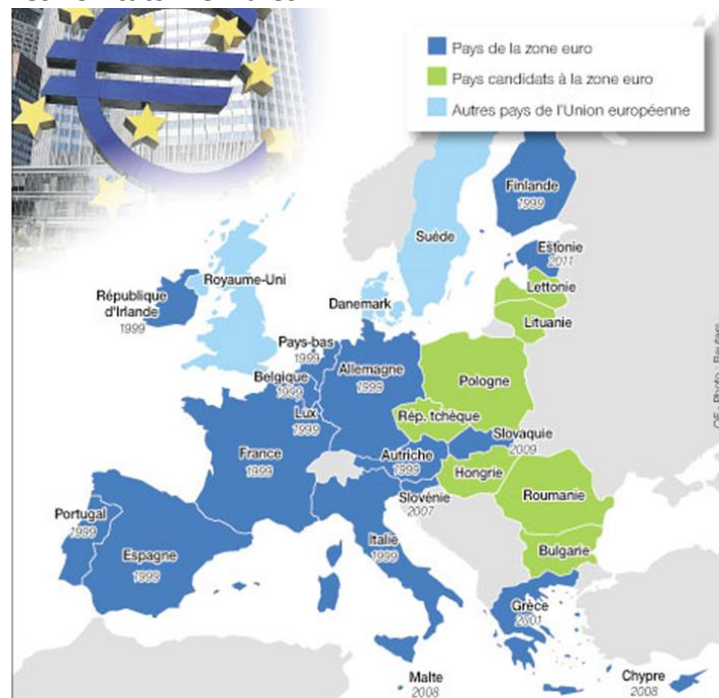
- 1) **Faites une légende coloriée indiquant** l'entrée progressive des différents Etats dans l'Union européenne. Pensez également à une couleur pour les **pays candidats** (Turquie, Macédoine) et les pays dont **l'adhésion est envisagée** (Bosnie-Herzégovine, Serbie-Monténégro, Albanie).
- 2) **Comptez** le nombre des Etats membres.
- 3) **Enumérez les Etats** qui en restent **exclus** en 2013.

La zone euro

Les étapes de la zone euro



Les 19 Etats membres

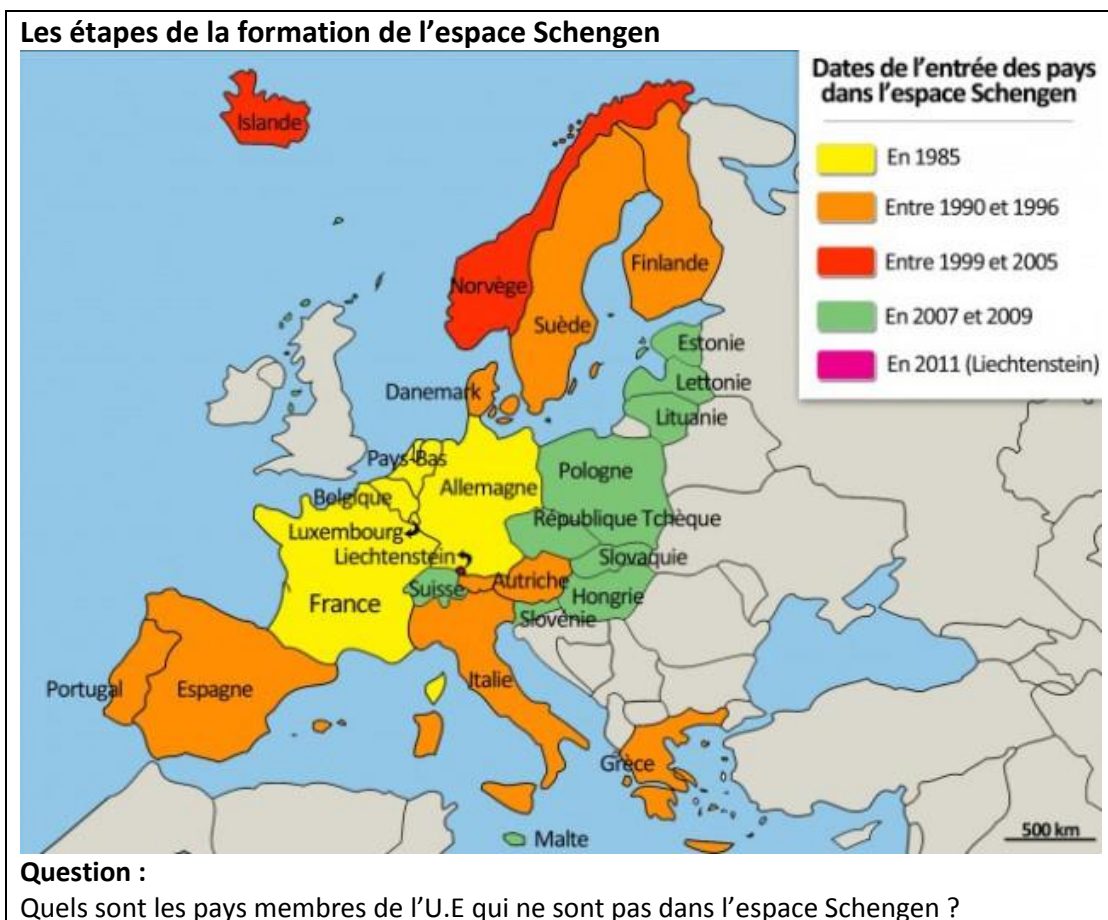


Exercice :

- 1) Faites la liste des pays ayant actuellement adopté l'euro.
- 2) Quels avantages y voyez-vous ?

L'espace Schengen

Il comprend les territoires des 26 États européens — 22 États membres de l'Union européenne, et 4 États associés, membres de l'AELE — qui ont mis en œuvre l'accord de Schengen et la convention de Schengen signés à Schengen (Luxembourg), en 1985 et 1990. L'espace Schengen fonctionne comme un espace unique en matière de voyages internationaux et de contrôles frontaliers, où le franchissement des frontières intérieures s'effectue librement, sans passeport, sans contrôle. L'espace Schengen englobe actuellement plus de 400 millions d'habitants sur une superficie de 4 312 099 km². Il fait aujourd'hui partie de l'Espace de liberté, de sécurité et de justice européen.



Le 1^{er} retrait d'un pays membre de l'U.E : le Royaume-Uni ou le Brexit

Qu'est-ce que le Brexit ?

[Internet Comprendre l'Europe, 19.06.2017](#)

Le "Brexit" est une abréviation de "British Exit", évoquant la sortie du Royaume-Uni de l'Union européenne.

Le 23 juin 2016, lors d'un référendum organisé par l'ancien Premier ministre David Cameron, 51,9% des Britanniques ont choisi de quitter l'U.E. A la suite du déclenchement de l'article 50 du traité sur l'Union européenne le 29 mars 2017, le Royaume-Uni et les 27 autres pays membres de l'Union européenne sont en train de mettre au point la sortie effective de l'U.E.

Lien introduction : <https://www.touteurope.eu/actualite/qu-est-ce-que-le-brexit.html>

Pourquoi le Brexit ?

Lors de sa campagne pour **briguer** un second mandat de Premier ministre, **David Cameron** avait promis d'organiser un **référendum** sur le maintien ou non du Royaume-Uni dans l'Union européenne. Avec **51,9%** des voix, c'est le camp du "Leave" **qui l'a emporté le jour du scrutin**. La participation a été supérieure à 72%, un record pour le pays. David Cameron, qui avait fait campagne pour le maintien du pays au sein de l'Union européenne, a choisi de démissionner quelques jours après le résultat. Il a été remplacé par l'ancienne ministre de l'Intérieur **Theresa May**.

Le Royaume-Uni s'apprête donc à quitter l'Union européenne - un processus qui pourrait **s'achever** début 2019, après deux ans de négociations complexes entre le pays et les vingt-sept autres Etats membres.

Quelles étapes ?

L'article 50 du traité sur l'Union européenne (TUE) encadre les conditions d'une sortie d'un Etat membre de l'Union européenne. L'Etat qui décide de se retirer notifie son intention au Conseil européen. L'Union négocie alors avec cet Etat un accord fixant les modalités de son retrait, que le Conseil conclut ensuite à la majorité qualifiée, après approbation du Parlement européen.

Le 31 mars 2017, les Vingt-Sept ont présenté les **grandes orientations** de leur approche : l'U.E se dit ouverte à des négociations rapides sur le futur partenariat avec le Royaume-Uni. Les **négociations officielles** entre Londres et l'Union européenne ont débuté le 19 juin à Bruxelles. Les négociations devraient s'achever dans deux ans, le 29 mars 2019, comme prévu par les traités.

Quels enjeux ?

- Les **conséquences politiques** du Brexit pour l'Union européenne sont difficiles à prévoir. Pour certains, la sortie du Royaume-Uni est une catastrophe : de fait, l'Union européenne perd l'une de ses trois grandes puissances, une des plus importantes places financières au monde, le premier partenaire diplomatique des Etats-Unis en Europe ainsi que l'un des seuls Etats européens entretenant une armée régulière conséquente.

Pour d'autres, elle peut permettre de ressouder l'Union : le Royaume-Uni étant historiquement l'un des pays les moins favorables à l'intégration européenne, sa sortie peut inciter les autres Etats à aller de l'avant. Parallèlement aux négociations avec le Royaume-Uni, les Vingt-Sept mènent une réflexion sur l'avenir de l'Union européenne, qui doit s'achever fin 2017.

Parmi les sujets brûlants qui devront être renégociés figure notamment la facture de la sortie de l'U.E. Le Royaume-Uni pourrait devoir verser jusqu'à 60 milliards d'euros au **budget européen**, un montant qui correspond aux **engagements** de Londres jusqu'à la fin du cycle budgétaire en 2020.

Les négociations porteront également sur la **libre circulation des personnes** entre l'Union européenne et le Royaume-Uni, ce dernier souhaitant limiter l'immigration sur son territoire. Le futur statut des Européens résidant ou travaillant au Royaume-Uni, ainsi que des Britanniques présents sur le continent européen, reste donc à définir.

La question de la libre circulation se pose tout particulièrement pour **l'Irlande**, qui partage sa seule frontière terrestre avec le Royaume-Uni et se retrouverait particulièrement isolée en cas de rétablissement des postes douaniers entre les deux pays.

Le statut du territoire de **Gibraltar**, appartenant au Royaume-Uni mais revendiqué par l'Espagne frontalière, s'est à son tour invité dans les débats. Les Vingt-Sept souhaitent que Madrid puisse **donner son aval** avant qu'un accord sur le Brexit puisse s'appliquer au territoire, ce que Londres refuse.

Une grande partie des **pourparlers** devrait **néanmoins** porter sur les futures **relations commerciales** entre les deux parties. Un chantier particulièrement imposant qui devra définir le nouveau cadre pour les échanges de produits et services (dont les procédures douanières et la réglementation sur les questions environnementales, de santé et de sécurité), alors que près de la moitié des exportations britanniques est destinée à l'Union européenne.

Par ailleurs, l'Angleterre voit ses relations avec le **gouvernement écossais**, indépendantiste et **europophile**, se détériorer. Après avoir publié le 20 octobre 2016 un projet de loi sur un nouveau référendum d'indépendance, la Première ministre écossaise Nicola Sturgeon a annoncé solennellement le 13 mars 2017 qu'elle solliciterait rapidement un vote au Parlement écossais pour organiser un deuxième vote sur l'indépendance de la province.

● Enfin, les **conséquences économiques** pour le Royaume-Uni sont également imprévisibles, les experts étant incapables de se prononcer d'une seule voix. Malgré la chute de la livre sterling dans les mois qui ont suivi le référendum de juin 2016, pour le moment l'économie britannique n'a pas subi de dommages, la sortie de l'Union européenne n'ayant pas encore eu lieu.

Lien : les 5 raisons du Brexit (Le Figaro 17/02/2016)

<http://www.lefigaro.fr/international/2016/02/17/01003-20160217ARTFIG00214-brexit-cinq-raisons-pour-lesquelles-les-britanniques-veulent-nous-quitter.php>

EXERCICE

- 1) Expliquez les mots écrits en rouge.
- 2) Que signifie le mot « brexit » ?
- 3) Date et modalités du « brexit ».
- 4) Expliquez l'expression : « C'est le camp du "leave" qui l'a emporté le jour du scrutin ».
- 5) Combien de temps faudra-t-il au Royaume-Uni pour sortir de l'U.E ? Quel article encadre sa sortie ?
- 6) Repérez les deux courants de pensée sur le Brexit : les arguments des pour et contre.
- 7) Quels enjeux suppose le Brexit ? Dans quels domaines ? Faites une liste précise et détaillée.
- 8) Quelle est la position de l'Ecosse à ce sujet ?
- 9) Synthétisez les raisons principales pour lesquelles le R.-U a décidé de quitter l'U.E.
- 10) En tenant compte de l'actualité, savez-vous si des progrès ont été effectués depuis la publication de cet article ?

LE ROYAUME-UNI

- 1) Les Iles Britanniques, 2 Etats : Royaume-Uni + République d'Irlande (Eire)
- 2) La Grande-Bretagne, 3 nations : Angleterre, Pays de Galles et Ecosse
- 3) Le Royaume-Uni : la Grande-Bretagne et l'Irlande du Nord (Ulster)



Le Royaume-Uni se compose de 4 nations (indiquez aussi les capitales régionales respectives)

-
-
-
-

On appelle aussi EIRE la.....

L'espace britannique



Le Royaume-Uni est un archipel océanique composé de la Bretagne, d'une partie de l'Irlande et de plusieurs autres îles . Localisez les îles Shetland, Hébrides, Orcades et l'île de Wight.


Indiquez les mers qui l'entourent.

La Grande-Bretagne est séparée de

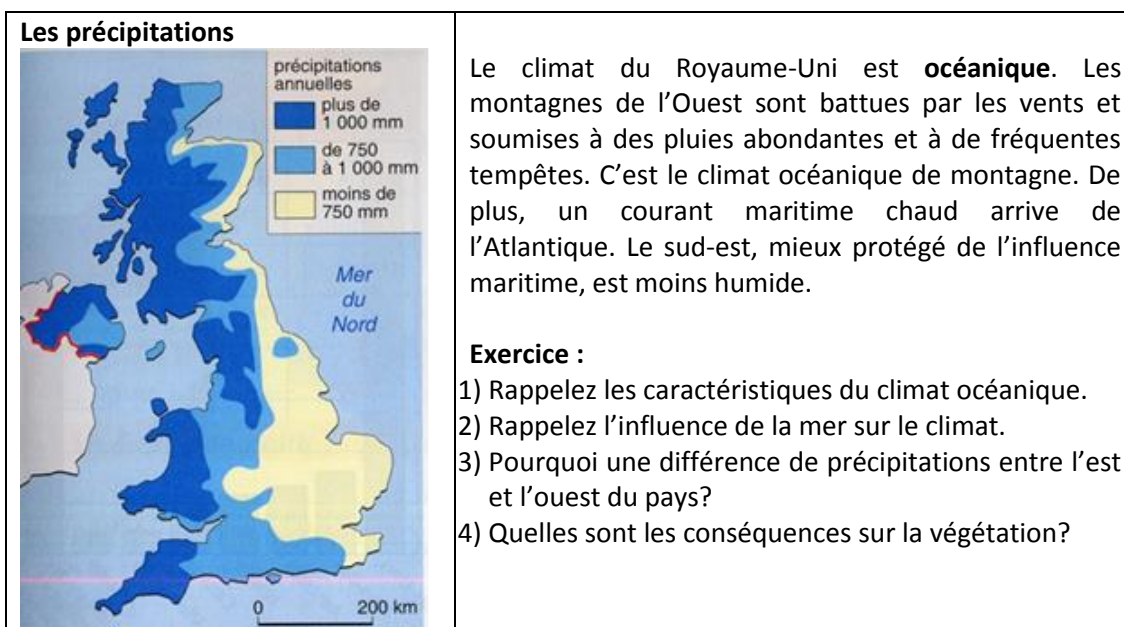
Son relief oppose les montagnes anciennes de l'ouest et du nord aux plaines du sud-est.

Le point culminant des Highlands s'appelle le ; ses monts sont riches en lacs ; citons par exemple le Loch Ness.

Paysages des Highlands



Le climat



La population britannique

Le Royaume-Uni compte à peu près 65 millions d'habitants. Les densités de population sont en moyenne très fortes (260 habitants au km²), mais la répartition est très inégale.

Cette répartition est due à trois facteurs :

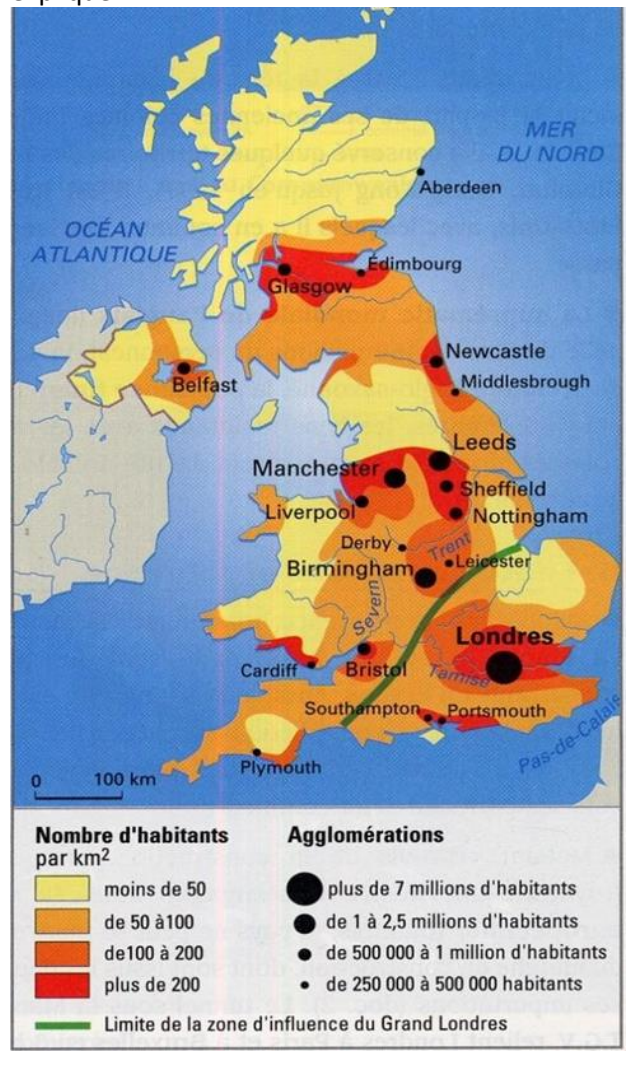
- la plupart des grandes villes sont des **ports** : Londres, Glasgow, Liverpool. C'est l'héritage de la tradition maritime et commerciale du Royaume-Uni.
- les autres villes se sont développées lors de la **Révolution industrielle du XVIII^e siècle** et sont localisées sur les bassins miniers : Cardiff, Manchester, Birmingham... Ce qui fait que le Royaume-Uni est le pays le plus anciennement urbanisé d'Europe. Il comptait déjà plus de 70% de citadins en 1910. Aujourd'hui, plus de 90% des Britanniques habitent en ville.
- depuis plus de 50 ans, le **bassin de Londres** est devenu la grande région attractive du Royaume-Uni, puisqu'il est l'une des extrémités de la Mégalopole européenne.

Les villes sont en général plutôt vastes. La suprématie londonienne est indiscutable avec plus de 15 millions d'habitants. Beaucoup de Britanniques préfèrent habiter dans des lotissements pavillonnaires en banlieue ; les agglomérations se sont étalées et parfois rejointes pour former des conurbations. Avec 90% de citadins, le Royaume-Uni est l'un des pays les plus urbanisés du monde.

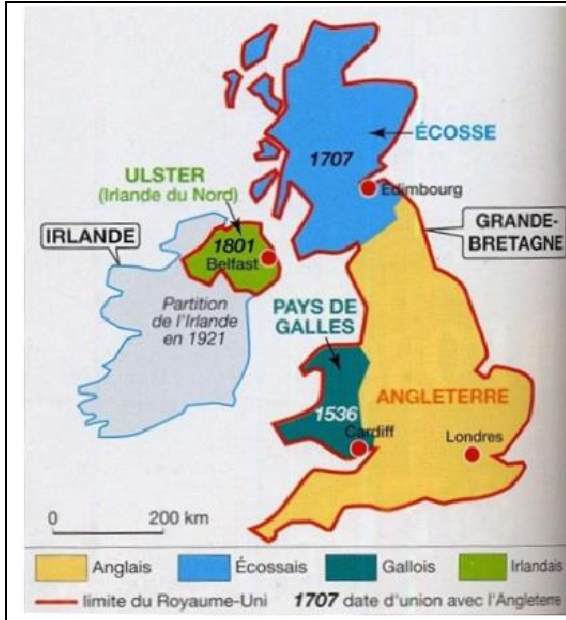
Après la Seconde Guerre mondiale, de nombreuses personnes originaires du Commonwealth¹ (surtout des Pakistanais et des Indiens) ont immigré au Royaume-Uni. Souvent sans qualification, ils vivent pauvrement ou se concentrent à Londres dans les quartiers pauvres des grandes agglomérations.

Exercice

A l'aide de la carte ci-dessous, repérez les zones à faibles et à fortes densités et essayez de les expliquer.



¹Association d'Etats indépendants issus de l'ancien Empire britannique.



Les Britanniques se divisent en 4 nations: les Anglais (83%), les Écossais, les Gallois et les Irlandais, qui ont tous trois leur propre langue en plus de l'anglais.

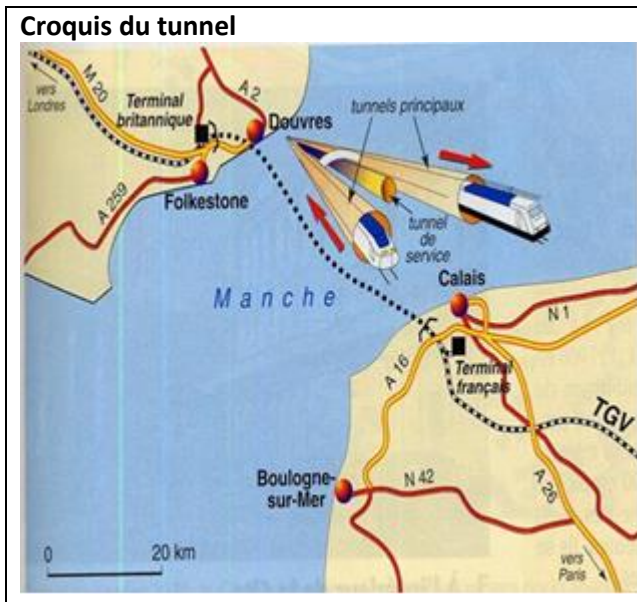
En 1997, Gallois et Écossais ont chacun obtenu un parlement, ce qui leur donne le droit de voter des lois.

En septembre 2014, les Écossais ont dit « non » à l'indépendance suite à un référendum.

Présentez en quelques lignes le problème irlandais et le rôle de l'I.R.A. (Irish Republican Army).

Le Royaume-Uni a des relations politiques et économiques privilégiées avec les États-Unis, sans compter ses liens étroits avec ses anciennes colonies regroupées dans le Commonwealth. Gibraltar appartient au Royaume-Uni, Hong Kong a été redonné à la Chine en 1997. Le Commonwealth regroupe la plupart des anciennes colonies sous l'égide de la reine. Le Royaume-Uni a adhéré à l'U.E en 1973 et les échanges commerciaux se sont intensifiés depuis cette date. Le tunnel sous la Manche, ouvert en 1994, permet de rejoindre rapidement le continent. Le Royaume-Uni a toujours refusé une trop grande intégration à l'U.E et a conservé sa monnaie nationale.

Le tunnel sous la Manche



L'entrée du tunnel à Folkestone (Angleterre).



La frontière entre le Kent et le Nord-Pas-de-Calais, fortement matérialisée par la Manche, semble s'effacer peu à peu dans les esprits; les habitants des deux régions commencent à se rendre des visites d'un week-end ou d'une journée... depuis la construction du tunnel sous la Manche, les Britanniques ont acheté un grand nombre de **résidences secondaires** dans le Pas-de-Calais...

Philippe, avocat d'affaires, fêtera bientôt son centième voyage en Eurostar. « Le tunnel me permet de faire fonctionner mes deux **cabinets**, à Lille et à Londres », explique-t-il. Se comparant à un **banlieusard** qui viendrait travailler en centre-ville, il raconte: « Le matin, je dépose mon enfant à l'école de Lille, puis je prends l'Eurostar. A 9 h 40 avec le **décalage horaire**, je suis à mon bureau londonien ».

Le Monde, 2/9/1996.

Exercice:

- 1) Expliquez les mots en caractères gras.
- 2) Expliquez en quoi le tunnel sous la Manche a mis fin à l'insularité de la Grande-Bretagne.
- 3) Quels sont les multiples avantages de cette infrastructure?



Carte animée pour réviser les villes:

<http://vil.nico3.free.fr/Public/D9-completer-RoyaumeUni/carte.html>

Les espaces économiques du Royaume-Uni

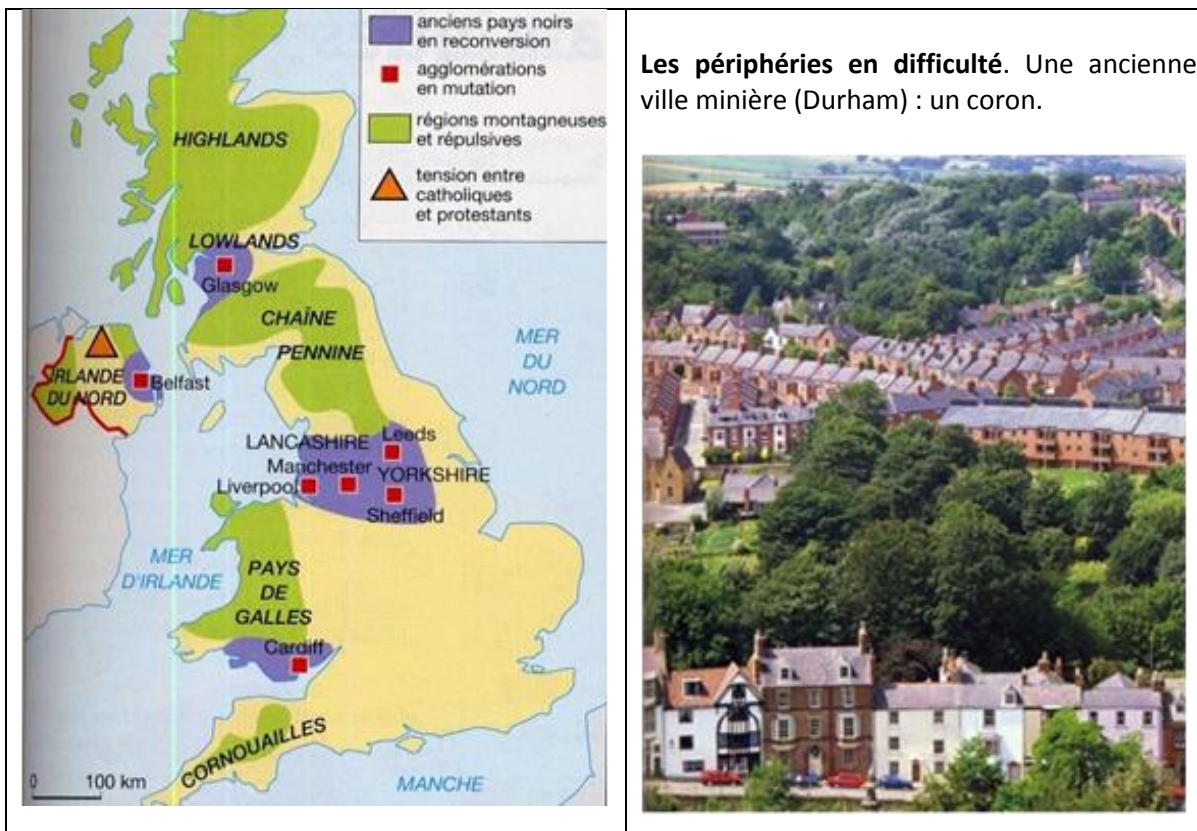
(5^e puissance mondiale, derrière les États-Unis, la Chine, le Japon, l'Allemagne, la Russie)

A) Les périphéries en difficulté (<https://www.youtube.com/watch?v=aQ37uWaYqKQ>)

Les pays noirs en reconversion

Les industries de la première révolution industrielle (textile, sidérurgie, construction navale) se sont développées sur les gisements de charbon et ont donné naissance au XIX^e siècle à des pays noirs. Mais, depuis les années 60, la plupart des mines et des usines textiles et sidérurgiques ont fermé, laissant place à d'importantes **friches industrielles**.

Les anciens pays noirs reçoivent des aides financières de l'Union européenne et de l'Etat pour se reconvertir. Des entreprises automobiles, des activités de services et même de haute technologie ont décidé de s'y installer, attirées par les subventions et la main d'œuvre disponible et bon marché. Mais les taux de chômage restent supérieurs à la moyenne nationale et le niveau de vie plus faible.



Les périphéries en difficulté. Une ancienne ville minière (Durham) : un coron.

Exercice:

- 1) Décrivez la carte ci-dessus.
- 2) Décrivez un coron.

Lexique:

Un pays noir: une région industrielle créée au XIX^e siècle sur un gisement de charbon ou de minerai de fer.


Une friche industrielle: un espace abandonné par l'industrie et pas encore réaménagé.

La reconversion industrielle: le passage d'une activité industrielle à une autre activité économique.

Paysage des Highlands.

1) Retrouvez les éléments du paysage présents dans le texte ci-contre.

2) Quelles sont les activités économiques de cette région?



« Les Highlands et les îles d’Ecosse s’étendent sur près de 40 000km², soit la moitié de la superficie totale de l’Ecosse. Les 373 000 habitants de la région habitent pour la plupart des villages de moins de 1 000 habitants [...]. La densité moyenne est de 9 habitants au km², la plus faible des régions européennes, Suède et Finlande exceptées. La région reçoit les fonds structurels européens¹ [...]. Le secteur primaire² emploie 13% des actifs principalement dans l’élevage extensif des moutons et la pêche. Le secteur industriel est restreint [...]. L’économie locale est dominée par le tertiaire qui représente 73% de l’emploi total, dans les services publics (éducation, santé) et surtout dans le tourisme dont dépendent directement 30 000 emplois. »

Richards et Bryden, *Géocarrefour*, vol. 75, janvier 2000.

¹Aide versée aux régions les plus pauvres en Europe par l’Union européenne.

² L’agriculture et la pêche.

La reconversion des docks de Liverpool

Les anciens bâtiments portuaires en brique du 19^e siècle sont reconstruits en logements et lieux culturels. Les projets sont en partie financés par l’U.E.



Doc.

Ville sinistrée pendant la seconde moitié du XX^e siècle, la ville des Beatles renaît. Il y a un peu plus de dix ans, l’Europe a injecté un milliard d’euros de subventions et une somme identique a été débloquée par le gouvernement britannique. Aujourd’hui cet argent porte ses fruits.

Le chômage, qui avait atteint 20% de la population active dans les créations d’emploi sont liées au développement des centres d’appel téléphoniques, secteur qui n’exige aucune qualification. Liverpool s’est aussi dirigée vers les biotechnologies.

La cité connaît également un boom du tourisme et des loisirs. La ville sera capitale européenne de la culture en 2008.

Les énormes vagues de licenciements des années 1980 et 1990 ont fait chuter la population, qui est passée de plus d’un million dans les années 1960 à 460 000 aujourd’hui, mais la situation est en train de changer.

Nick Mathiason, *Courrier international*, 3 mars 2005.

Exercice:

1) Montrez que Liverpool a connu une grave crise économique et démographique.

2) Quels sont les signes de renouveau de la ville?

B – Les espaces dynamiques

Le sud-est anglais n'a cessé d'affirmer son rôle européen et mondial depuis plus d'un siècle. *L'Angleterre dynamique* s'étend vers le nord jusqu'aux Midlands. C'est là que se concentrent les investissements étrangers au Royaume-Uni. La présence de la capitale et la proximité du continent européen ont encouragé le développement d'activités modernes : de l'agriculture intensive du Sussex et de l'East Anglia au tertiaire très actif du bassin de Londres, où des technopôles, installées le long des grands axes convergents vers la capitale, sont proches des grandes universités. Le Sud-Est anglais est aujourd'hui une des euro-régions les plus performantes. Londres est une métropole mondiale.

Exercice : à l'aide de cette carte, mettez en évidence les atouts du site de Londres.



1) Londres


Londres est la capitale de l'Angleterre et du Royaume-Uni. Métropole immense située à l'extrémité Nord- Ouest de la mégalopole européenne dont elle constitue un maillon essentiel, ainsi que sur l'axe majeur de la dorsale du même nom. Ainsi, elle est au cœur de la région la plus développée et la plus riche d'Europe. Elle est également un centre d'impulsion international parfaitement intégré au phénomène de la mondialisation.

Problématique:

Mais en quoi Londres peut-elle être considérée comme une ville mondiale?

Quels sont les aspects de son développement et de ses caractéristiques qui la font entrer dans cette catégorie?

La Banque d'Angleterre et la Bourse dans la City



Londres la ville touristique

<https://www.youtube.com/watch?v=VprKpQHx0A&t=11s> (14')

Question :

à l'aide de cette vidéo, faites un tableau récapitulatif des principaux monuments et attractions touristiques de la ville de Londres et donnez quelques détails sur chacun des sites.

Picadilly Circus, au cœur de Londres. Cette place dessinée au XIX^e siècle est aujourd'hui le carrefour de nombreuses galeries marchandes. Les Londoniens aiment se retrouver au pied de la statue d'Eros et, le soir, les enseignes lumineuses les invitent à entrer dans les cinémas, les boîtes de nuit et les restaurants de ce quartier central très animé.



1. Une métropole qui possède les infrastructures d'une ville mondiale

a) Un paysage qui traduit sa puissance internationale

Londres est la **capitale politique du Royaume-Uni** et un centre de commandement diplomatique, économique et intellectuel. Ces fonctions aussi importantes que prestigieuses, marquent son territoire par des bâtiments qui les symbolisent.

- **Des fonctions politiques et diplomatiques:** le palais et l'abbaye de **Westminster**, siège du Parlement et lieu de couronnement des rois d'Angleterre, le 10 Downing Street, résidence du Premier ministre, les ambassades, le quartier des ministères, etc.

- **Des fonctions économiques:** Londres est l'une des premières places financières de la planète. Cette fonction économique se marque, à l'Est, par des gratte-ciel regroupés au sein de la City, le CBD (Central Business District), le centre d'affaires de la capitale. La Bourse de Londres, le **Royal Stock Exchange of London**, avec ses nouveaux locaux construits sur District Paternoster Square.

- **Des fonctions intellectuelles:** Londres comptabilise une trentaine d'universités et au moins six technopôles.

b) Communications et liaisons avec la planète entière

Londres constitue un carrefour majeur de communications pour les transports de personnes comme de marchandises. Même si la métropole-capitale est coupée par **la Manche** du reste du continent européen, ses responsables ont fait en sorte que les interconnexions avec le reste du monde soient aisées et rapides. Elle est la **première plateforme aéroportuaire mondiale** avec 2 aéroports internationaux qui relient la plupart des grandes lignes aériennes internationales.

Elle est également très bien reliée à l'Europe continentale par des liaisons ferroviaires: on peut traverser la Manche et arriver à Paris depuis Londres en **2h15**. De là, les Londoniens peuvent prendre des TGV vers Lille (d'où ils peuvent rejoindre la Belgique, les Pays-Bas...), Strasbourg (Allemagne, Suisse...), Lyon (Italie) ou vers Marseille et la Méditerranée.

c) Des espaces en mutation

Londres accueille régulièrement des événements internationaux: réunions politiques, sportives, etc. Pour être à la hauteur d'une ville mondiale, Londres a commencé à se restructurer.

- **Canary Wharf**: les Docklands sont les témoins de cette transformation de la capitale. Ce quartier, Canary Wharf, construit depuis 1981 sur les anciens docks désaffectés de la ville, a été restructuré en centre d'affaires et en quartiers résidentiels. Il abrite aujourd'hui les bureaux de plus de 700 firmes, plusieurs dizaines de milliers de logements de luxe ainsi que d'importants équipements de loisirs. C'est un lieu créateur de richesse et d'emplois.



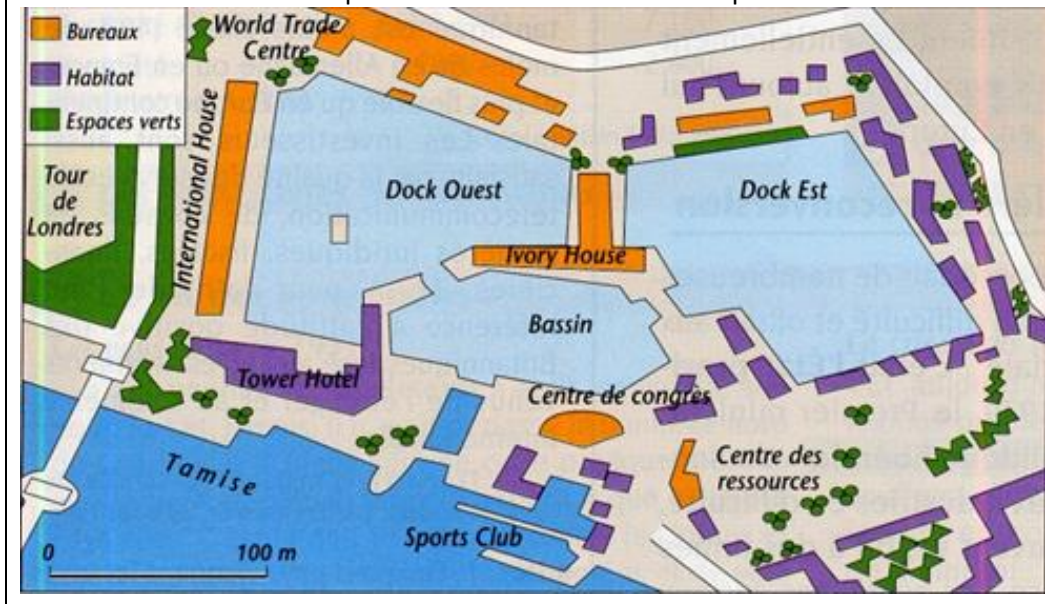
Vue aérienne du centre de Londres

Exercice :

- ① Repérez sur la photo le Tower Bridge, la Tour de Londres (construite au XI^e s. par Guillaume le Conquérant), la *tour de la Lloyd's* (1^{re} compagnie d'assurances mondiale); le *Gherkin* (tour de bureaux de 180 m, achevée en 2003 pour la compagnie d'assurances Swiss Re); Sainte Katherine's docks (reconvertis en bureaux, logements et port de plaisance).
- ② Quel important édifice religieux de la city n'est pas sur la photo ?
- ③ Quels éléments du paysage prouvent l'ancienneté de la ville ?
- ④ Quelles sont les activités économiques concentrées dans la City ?

Document.

La rénovation des docks : depuis les années 70, la City s'est étendue et colonise les anciens docks abandonnés par les fonctions industrielles et portuaires.



- **Impact des J.O 2012 à Londres:**

Les Jeux Olympiques de 2012 se sont déroulés à Londres. Ses responsables ont donc eu le temps de mettre en place les structures nécessaires à un événement d'une telle ampleur. Les J.O ont permis de redessiner une partie de la carte de l'Est londonien. Soucieux de réduire les déséquilibres sociaux spatiaux de la capitale, ils ont fait construire le City Airport, de nouvelles lignes de métro ainsi qu'un site d'accueil dans l'Est de la capitale, et notamment dans le quartier de Stratford, longtemps extrêmement pauvre, où la mairie a fait construire le parc olympique.

2. Une métropole puissante, au rayonnement international

Une population millionnaire et cosmopolite

- **Une aire urbaine étendue et peuplée:**

Londres possède une aire urbaine très vaste et assez peuplée. La ville-centre compte **7,5 millions** d'habitants alors que le Grand-Londres et l'agglomération en totalisent respectivement 8,3 et 11 millions.

- **La ville la plus cosmopolite du continent européen:**

Durant des siècles, Londres a forgé une partie de son identité au rythme des migrations étrangères. Aujourd'hui encore, cette métropole attire des **étrangers du monde entier**. Les plus nombreux, y viennent en quête d'une formation, d'un travail ou d'un asile. La **diversité ethnique** est l'une des clés du dynamisme de la capitale britannique: le recensement de 2001 annonçait que les Londoniens étaient pour 60 % des Britanniques, 12 % des Indiens (Pakistanais et Bangladeshis), 11 % des Africains et des Antillais, 8 % des Européens, 2 % des Chinois et 7 % d'autres. En 2006, 2,2 millions de Londoniens étaient nés à l'étranger. Le **penjâbi** (langue parlée en Inde et au Pakistan) est la deuxième langue parlée à Londres.

Une ville qui inspire confiance au capital étranger:

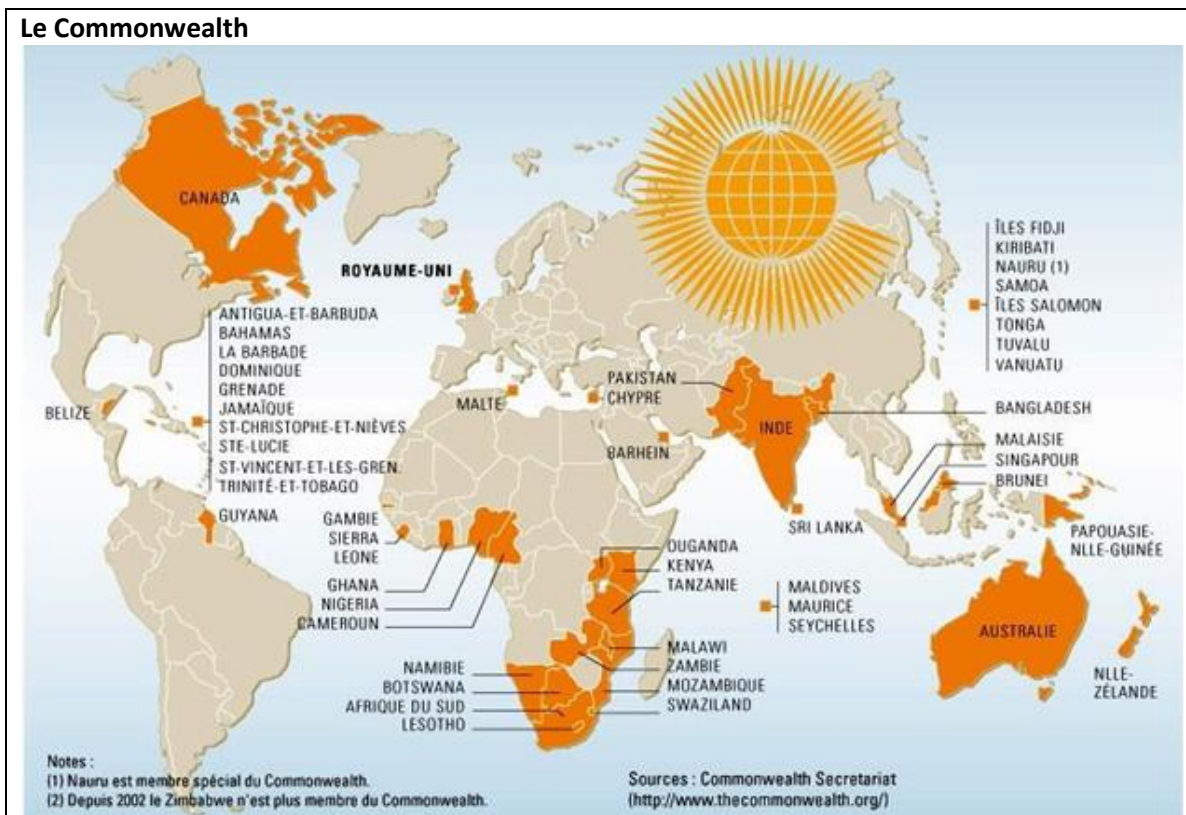
Nombre de nouveaux riches des pays émergents, viennent s'y installer ou y investir, attirés par la confiance qu'inspire cette **plate-forme financière internationale** qui parle l'anglais et parvient à tirer son épingle du jeu malgré la crise économique qui sévit en Europe depuis 2008. Londres « semble, encore et toujours, la cité de tous les possibles » (Express). La famille royale d'Abu Dhabi, par exemple, a acheté les 100 000 m² du centre de conférences d'Excel qui ont abrité les sportifs durant les Jeux Olympiques.

a. Une très grande puissance intégrée à l'économie et à la finance mondiales

Londres est un pôle décisionnel important de l'économie et de la finance mondiales. Cette puissance, ce rayonnement ont commencé à se constituer avec la mise en place d'un **Empire colonial immense** dont elle était la capitale. Aujourd'hui, Londres produit à elle seule **19 % du PIB (produit intérieur brut) de l'Angleterre**. 1/3 des sièges sociaux des grandes entreprises européennes y ont élu domicile et, en 2004, Londres comptait 34 des sièges sociaux des 500 plus grands groupes mondiaux (soit 80 % du nombre implanté au Royaume-Uni). Au même moment, Tokyo en comptabilisait 52, Paris 36 et New York 30.

• Le Commonwealth, élément incontournable de la puissance mondiale de Londres:

Londres a développé des liens commerciaux avec le reste du monde et tout particulièrement avec le Commonwealth (dont elle est la capitale) qui regroupe 54 des anciennes colonies de l'Empire britannique (soit un marché de 2 milliards d'habitants) avec lesquelles Londres entretient des relations commerciales intenses et privilégiées. On compte parmi les États membres du Commonwealth l'Inde, le Pakistan, l'Australie, le Canada anglophone, l'Afrique du Sud, le Nigéria, l'île Maurice, etc.



- **La City, première plate-forme financière européenne :**

Le rayonnement économique de Londres repose avant tout sur sa puissance financière, qui se concentre dans le quartier d'affaires de la City dont les activités sont liées à la finance, aux assurances, au droit, entre autres. Elle est également le siège de la Bourse, le Royal Stock Exchange of London, 3^e place boursière du monde. La City comptabilise près de 20 % des prêts bancaires souscrits dans le monde, 50 % des transactions en actions, 30 % des transactions en devises et 40 % des patrimoines gérés en Europe par les fonds de pension.

Surtout, la City domine les secteurs du commerce et de l'assurance (première place mondiale). Elle récupère, à elle seule, 50 % des commissions provenant du transport maritime mondial et 29 % des assurances souscrites par les compagnies aériennes.

Une métropole où les activités tertiaires supérieures sont très fortement représentées :

80 % des habitants du Grand Londres travaillent dans les services. Le quartier de la City offre 7,7 millions de m² de bureaux et emploie plus de 300 000 personnes, dont 57 000 dans les activités bancaires internationales (elle fait du reste de Londres la capitale mondiale de la banque avec 539 banques sur son territoire). Un second centre tertiaire, plus récent, dans le quartier des anciens docks réhabilités, Canary Wharf, offre 2,1 m² de bureaux qui concentrent des activités de banque, de médias (agence Reuter par exemple) et de services juridiques.

- **Une ville à la charnière de trois systèmes d'échanges :**

Ce dynamisme économique et financier de Londres est en grande partie lié à la position privilégiée dont elle dispose entre l'Europe, le Commonwealth et l'Amérique anglophone. Elle bénéficie en effet de l'anglais comme langue internationale des affaires et de pratiques commerciales communes au monde anglo-américain.

c. Un rayonnement culturel et intellectuel ancien et intense

Londres est de longue date une capitale intellectuelle vivante et dynamique et notamment dans les secteurs de la presse, de l'édition et du marché de l'art. De l'Académie des Sciences britanniques à l'Observatoire de Greenwich, de Big Ben à la Cathédrale Saint-Paul en passant par la reine elle-même, des bus à étages, aux très nombreuses animations culturelles, des musées (Madame Tussaud, The British Museum, The Science Museum...), aux galeries d'art (The National Gallery, The Tate Modern, The Tate Gallery...), aux salles de théâtre, de concerts et de spectacles qu'elle propose à ses résidents comme à ses visiteurs, Londres est un centre culturel international brillant et dynamique qui accueille 23 millions de visiteurs annuels.

3. Une métropole mondiale qui doit affronter d'importants défis urbains

Embouteillages et problèmes de stationnement permanents, traitement des eaux, pollution, difficile gestion des déchets, loyers exorbitants, les Londoniens paient cher la rançon de l'attractivité, de la taille et du rayonnement de leur ville.

Installée sur la rive gauche de la Tamise, **la City** est depuis le XIX^e siècle le principal quartier d'affaires de Londres et le cœur financier de l'Europe. Elle accueille la bourse (1^{re} d'Europe), des sociétés d'assurance, les sièges de banques et des firmes multinationales (Shell...), de grands journaux et des maisons d'édition (4 fois plus de publications par an que la France). Plusieurs gares y débouchent, dont le rôle est essentiel car, si la population résidant dans la City est tombée à moins de 6000 habitants, un demi-million de personnes environ y travaillent dans la journée. Londres enfin reçoit plus de 25 millions de visiteurs par an, dont près de la moitié sont des étrangers.

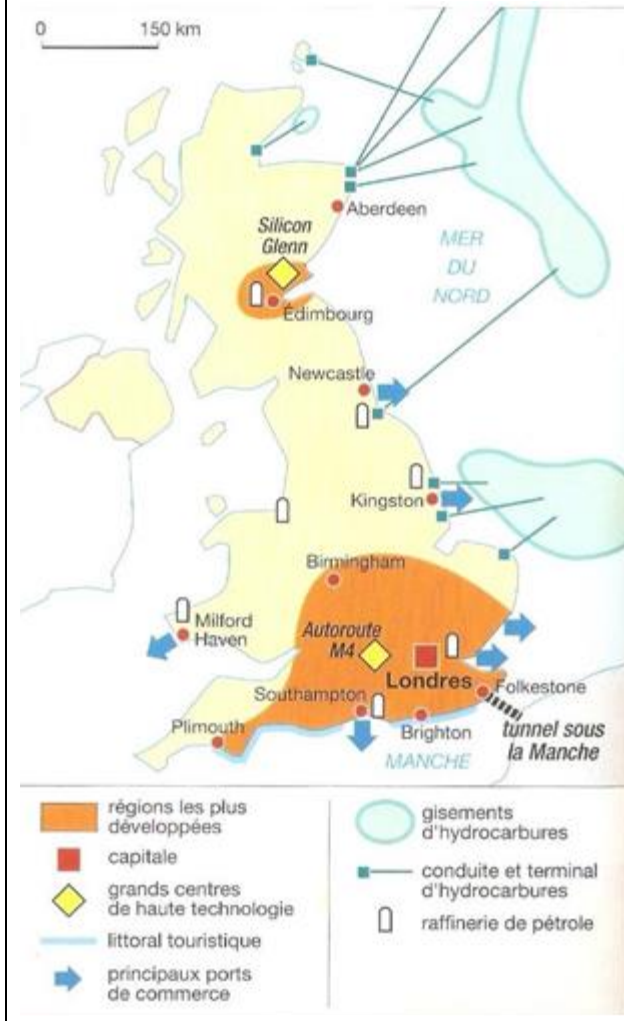
II) Les littoraux de l'Est et du Sud

Dans les années 1960, d'importants gisements d'hydrocarbures (pétrole et gaz) ont été découverts dans la mer du Nord. Leur exploitation a permis au Royaume-Uni d'être un gros producteur de pétrole (11^e rang mondial en 2005). Le littoral de la mer du Nord s'est développé en accueillant les industries induites (terminaux pétroliers, des raffineries de pétrole et des usines pétrochimiques). Edimbourg est la capitale politique et administrative de l'Ecosse et la deuxième place financière du Royaume-Uni avec de très grandes banques et compagnies d'assurance. Dans les années 1980 et 90, de nombreuses sociétés étrangères fabriquant du matériel électronique et informatique (IBM, Canon, Motorola...) se sont installées autour de cette ville (la Silicon Glenn). Depuis quelques années, des sociétés se tournent vers la recherche et la fabrication de nouveaux produits high-tech.

Le développement du commerce avec l'Europe depuis 30 ans a profité aux ports de la mer du Nord et de la Manche. Les stations balnéaires de la Manche (la Riviera) accueillent des touristes mais aussi de nombreux vacanciers et retraités anglais.

Exercice :


A l'aide de la carte ci-dessous, expliquez quelles sont les activités des littoraux est et sud.



**Plate-forme pétrolière off-shore
(Shell au large de l'Écosse).**




Une cité informatique à Stirling (Ecosse)

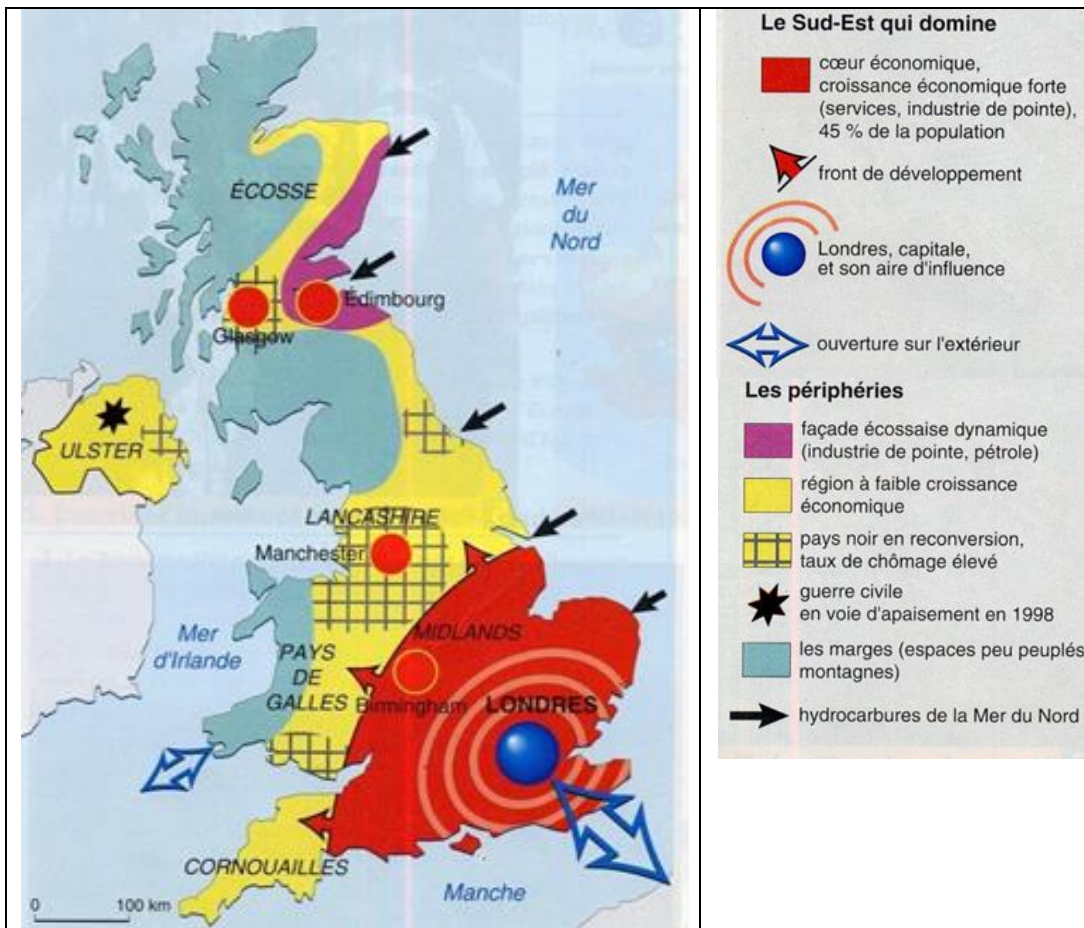


La plupart des usines de cette région fabriquent des distributeurs de billets de banque ou des ordinateurs PC. Depuis quelques années, certaines sociétés se lancent dans la recherche et l'innovation en s'appuyant sur les universités écossaises.

Brighton, une station de la Riviera anglaise



Les stations balnéaires de la Riviera sur la Manche attirent surtout des vacanciers anglais. Elles bénéficient de la proximité de Londres et d'un climat plus favorable que celui de la mer du Nord. Brighton est la première station balnéaire du pays.



Exercice

A l'aide de vos connaissances et de cette carte, rédigez un paragraphe organisé sur les espaces régionaux du Royaume-Uni.

Le tunnel sous la Manche

- Le tunnel sous la Manche

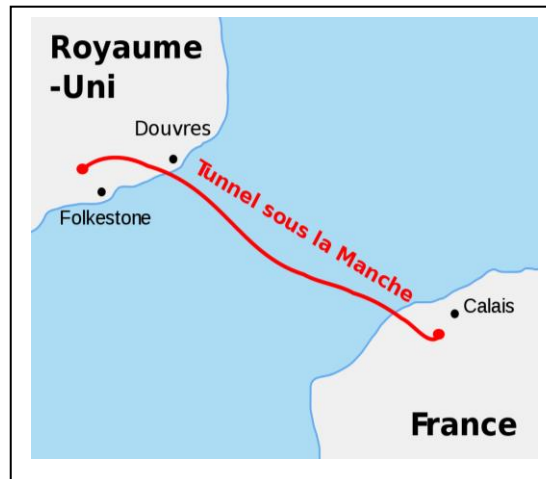
<https://www.salutbyebye.com/tunnel-manche-secrets/>

- vidéo 3' : « La traversée du tunnel »

<https://www.youtube.com/watch?v=ENQaWpLDTnM>

- Documentaire « Construction du tunnel sous la Manche » (1h)

<https://www.youtube.com/watch?v=p-W7KjpkW7Q>



Questionnaire sur le documentaire “Construction du tunnel sous la Manche”

- 1) En quoi ce tunnel peut-il être considéré exceptionnel ?
- 2) Quelle est sa longueur et quelle est la durée de la traversée ? Combien de voitures à chaque traversée ? D'où à où ?
- 3) Est-il concurrentiel par rapport au bateau et à l'avion ?
- 4) Quelles catégories de personnes ont été interpellées pour sa réalisation (de la plus basse à la plus haute) ?
- 5) L'idée d'un tunnel est-elle récente ? Quelles étaient les réticences ?
- 6) Combien de projets ont été déposés au total ?
- 7) Qui sont les chefs d'Etat de cette époque qui vont être impliqués dans le projet ? Pourquoi y sont-ils favorables ?
- 8) Quelle est la condition imposée, côté anglais, pour sa réalisation ?
- 9) Combien de projets ont été déposés ? Quel projet est retenu et pourquoi ?
- 10) Quelle durée est prévue pour la réalisation du projet ? Où sont les plus fortes pressions ?
- 11) Quelle sera la plus grosse difficulté ?
- 12) Pourquoi n'y a-t-il pas de tournant ?
- 13) Comment faire pour établir le tracé du tunnel ?
- 14) 1^{er} imprévu : mars 98. En quoi est-il une « catastrophe » ?
- 15) Quel autre problème rencontre le chantier avec les « dalles » ? Comment est-il résolu ?
- 16) Comment se passe la jonction des deux bouts de tunnel ? Qui arrive en premier ?
- 17) Que faire des machines utilisées pour creuser le tunnel ?
- 18) Un ouvrier s'exclame : « C'est l'Europe ! ». Qu'entend-il ?
- 19) En quoi consiste la deuxième partie du chantier à présent ?
- 20) Quand est **inauguré** le tunnel ? En présence de qui ? Y a-t-il du retard ? Quelles sont les réactions des 2 peuples ?
- 21) Les débuts du tunnel sont-ils satisfaisants ?
- 22) 18/11/95 : catastrophe. Laquelle ?
- 23) Quels sont les dangers pour les passagers ? Pourquoi ne pas arrêter le train ? Quel est le bilan ?
- 24) A partir de quelle année le tunnel commence-t-il à avoir du succès et à devenir rentable ? (donnez quelques chiffres)
- 25) Qu'est-ce qui est prévu pour accélérer l'arrivée à Londres ?
- 26) Conclusion ?

L'ESPAGNE

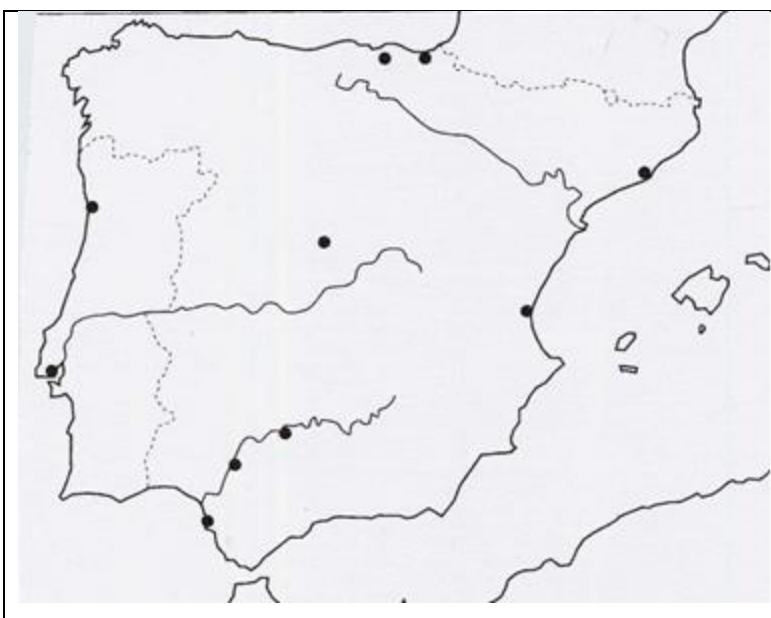


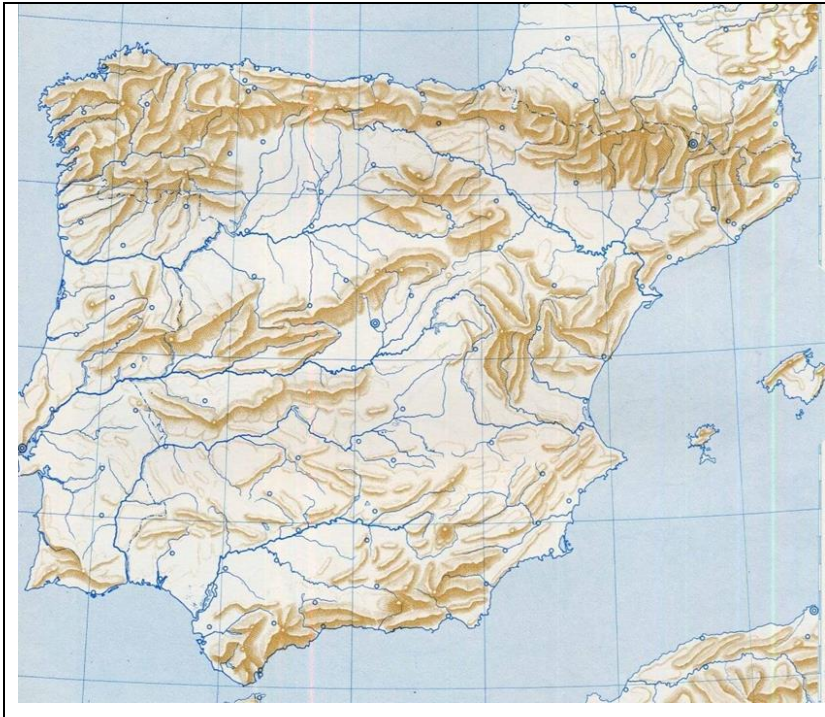
Exercice:

A l'aide de la carte ci-contre, observez et rappelez:

- 1) Ce qu'est la péninsule Ibérique.
- 2) La position géographique de l'Espagne par rapport à l'Europe. Y voyez-vous des avantages et des inconvénients ?
- 3) Quelles sont les frontières terrestres et maritimes de l'Espagne ?
- 4) Que pouvez-vous dire sur GIBRALTAR, CEUTA et MELILLA ?
- 5) Repérez l'archipel à l'est de l'Espagne et le nom des îles. Et l'archipel des Canaries ?
- 6) Les principaux fleuves.

Massif presque aussi étendu que la France, le territoire espagnol occupe 85% de la péninsule ibérique et comprend les archipels des Baléares (en Méditerranée) et des Canaries (dans l'Atlantique).





Exercice

1) A l'aide de la carte ci-dessus, présentez le relief de l'Espagne.

Vous devez savoir situer (cherchez sur un atlas numérique) : les monts Cantabriques, les Pyrénées, la Sierra Nevada, la Sierra Morena, les monts Ibériques, la chaîne de Castille, le plateau de la Meseta, la plaine de l'Ebre, la Costa Blanca, la Costa Del Sol, la Costa Brava, la plaine de Séville, les plaines du littoral Atlantique (la Galice).

2) Faites une légende avec les couleurs adéquates.

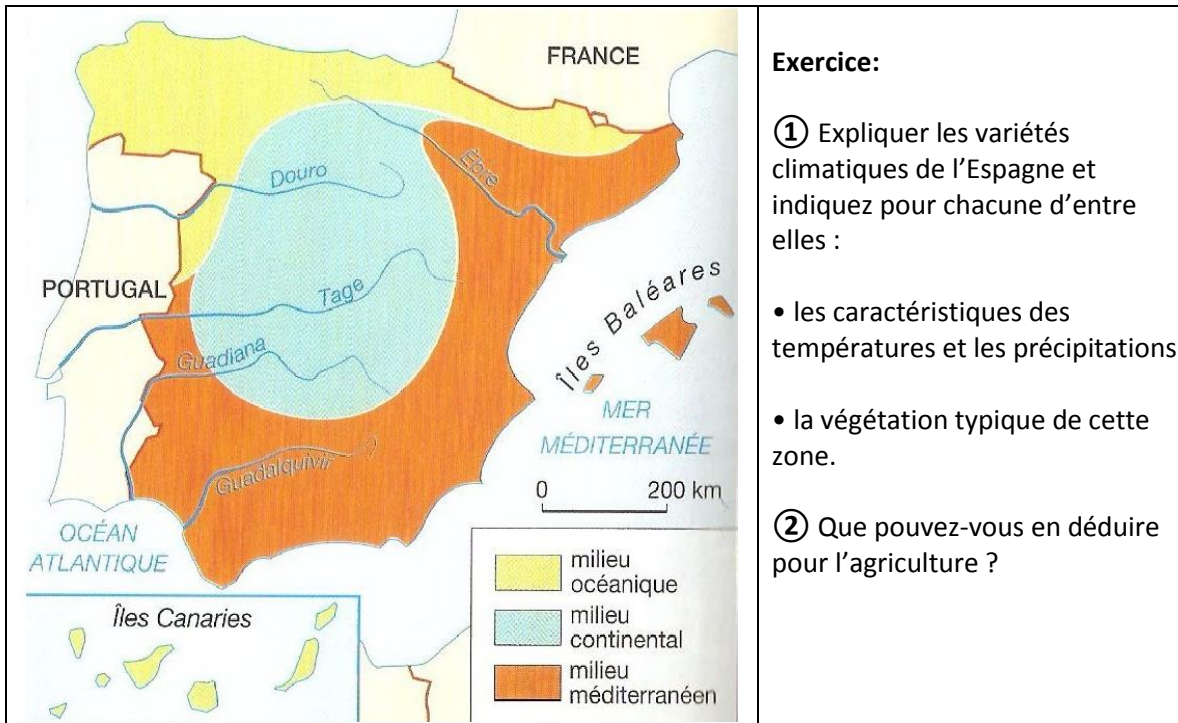
Site sur le relief et le climat de l'Espagne :

http://www.larousse.fr/encyclopedie/divers/Espagne_g%C3%A9ographie_physique/185597

Séparée du reste de l'Europe par les Pyrénées, elle est ouverte sur l'Atlantique et la Méditerranée et n'est séparée du Maghreb que par le détroit de Gibraltar, large de 14 km.

Le pays est composé d'un plateau (la Meseta) bordé de chaînes de montagnes et d'étroites plaines littorales.

Le climat de l'Espagne



Exercice:

① Expliquer les variétés climatiques de l'Espagne et indiquez pour chacune d'entre elles :

- les caractéristiques des températures et les précipitations
- la végétation typique de cette zone.

② Que pouvez-vous en déduire pour l'agriculture ?

Le climat oppose le nord-ouest océanique au sud au climat méditerranéen très sec et au sud-est quasi saharien. Dans une grande partie de l'Espagne, les précipitations sont faibles et le manque d'eau est un problème.

L'Histoire de l'Espagne

L'Espagne a une histoire brillante. Au Moyen Âge (VIII^e s.), elle a été occupée par les musulmans venus du Maghreb. Les petits Etats chrétiens du Nord ont entrepris la Reconquista, reprenant peu à peu tout le territoire. L'Andalousie a été fortement marquée par la civilisation arabo-musulmane.

L'unité espagnole est ancienne : elle remonte à 1492, lorsque les rois catholiques (Isabelle de Castille et son mari Ferdinand d'Aragon) reprirent aux Maures le royaume de Grenade.

L'Espagne a constitué au XVI^e siècle un vaste empire colonial en Amérique (du sud et centrale), ce fut son « siècle d'or » (1530-1640, l'Etat alors le plus fort du monde). Mais à partir du XVII^e s, elle a commencé son déclin, elle a perdu ses colonies au XIX^e s. et elle n'a pas connu la révolution industrielle (sauf au nord).

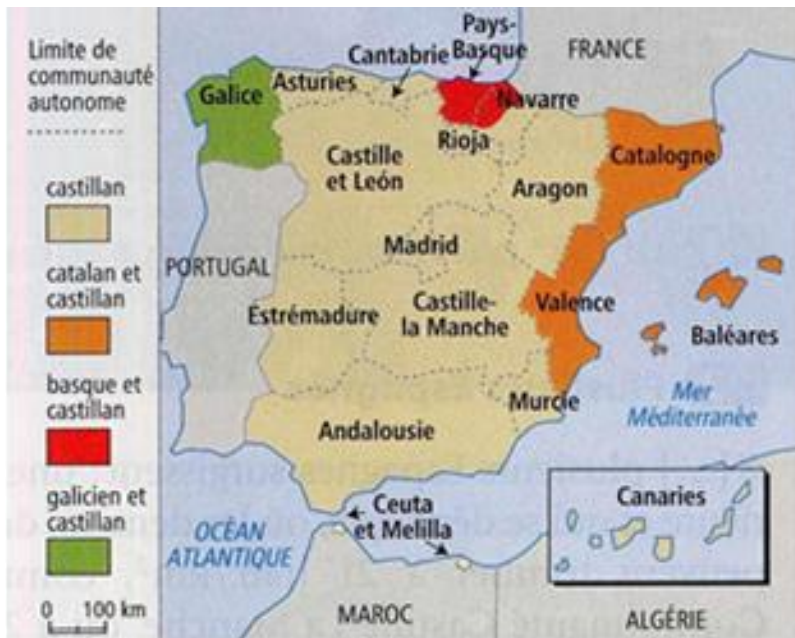
Le renouveau d'une puissance

L'Espagne, pays pauvre et isolé jusque dans les années 1960, fait aujourd'hui son grand retour en Europe et s'est profondément transformé depuis 30 ans :

- Après 35 ans de dictature sous le Général Franco (1939-1975), l'Etat est devenu démocratique ; il a ensuite créé 17 communautés autonomes : certaines communautés ont leur propre langue officielle au côté de l'espagnol et une très large autonomie (ainsi la Catalogne, le Pays Basque).
- A partir des années 1960, l'Espagne a connu une croissance économique très forte (le « miracle économique espagnol »). Elle est aujourd'hui la 14^e puissance économique mondiale.

- L'Espagne a intégré l'U.E en 1986 ; elle en a reçu des aides financières massives qui lui ont permis par ex. de moderniser son réseau de transport. Elle s'est ouverte davantage sur les pays de l'Union avec lesquels elle réalise aujourd'hui 60% de ses échanges. Elle renoue aussi des relations économiques et culturelles avec l'Amérique latine (où elle est le 1er investisseur étranger devant les USA) et le Maghreb (ex : gazoduc Espagne-Algérie à travers la mer Méditerranée inauguré en 1996).
- L'année 1992 (Exposition Universelle à Séville, Jeux Olympiques à Barcelone) a symbolisé le renouveau de l'Espagne.

Doc 1. Les communautés autonomes



Exercice

Doc. 1 :

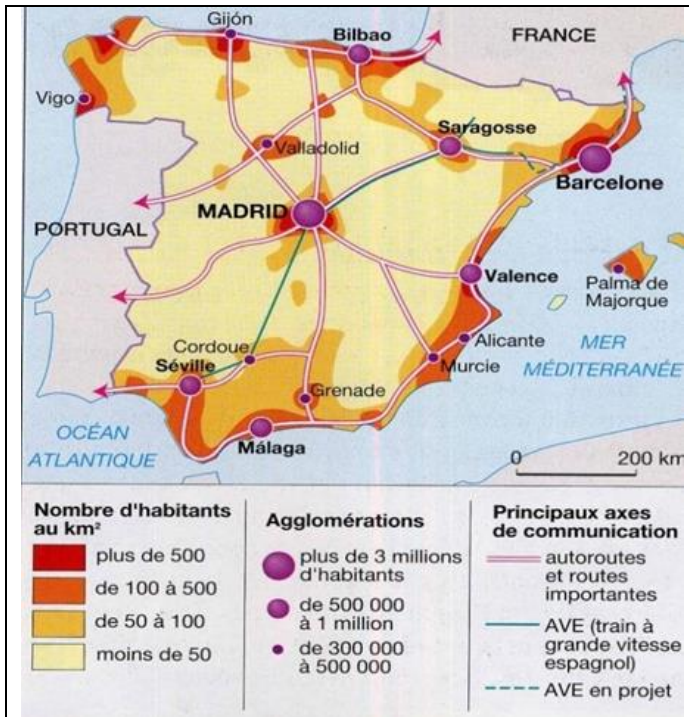
- ① Où parle-t-on le catalan ?
- ② Quelle part de la population a deux langues ?

Doc. 2 :

- ① Dans quelles régions du monde parle-t-on l'espagnol ? Pourquoi ?
- ② Qu'est-ce qui explique l'importance nouvelle des investissements espagnols en Amérique latine ?

Doc 2. L'Espagne et le monde hispanophone





La population et les grandes villes

Exercice:

- 1) Commentez cette carte, en indiquant :
 - les foyers de population
 - les déserts humains
- 2) Vous essaieriez ensuite d'expliquer la raison de cette variété de densités.

Une longue tradition urbaine

Jusque vers 1960, l'Espagne avait une population majoritairement rurale. Mais dans les années 1970, elle a connu une forte croissance urbaine, alimentée par l'exode rural. Plus de 80% des Espagnols sont aujourd'hui des citadins. Les vieux noyaux urbains se sont ceinturés de grands immeubles modernes.

Les régions rurales de l'intérieur du pays se sont vidées de leur population au profit de Madrid et des villes du littoral.

Ce pays, depuis l'Antiquité, a une longue tradition urbaine. Les villes espagnoles sont souvent de véritables villes-musées : Grenade, Cordoue, Séville, Madrid... en sont des exemples.

Leurs monuments attirent des millions de touristes (cherchez des photos témoignant de la richesse en monuments en Espagne).

En général, les plaines sont attractives et les montagnes se désertifient. Le déséquilibre de peuplement entre le centre de l'Espagne (sauf Madrid) et la périphérie littorale s'accroît.

La natalité, longtemps élevée, est aujourd'hui très basse et ne permet plus le renouvellement des générations. Le nombre d'enfants par femme est passé de 2,6 en 1975 à 1,3 en 2005. L'Espagne est passée d'une démographie de pays en voie de développement à celle d'un pays développé (faible natalité, faible mortalité et faible taux d'accroissement). Cette chute de la fécondité s'explique par le développement économique et l'émancipation des femmes, mais aussi par l'absence de soutien de l'Etat aux familles nombreuses. L'accroissement naturel est aujourd'hui pratiquement nul, la part des moins de 15 ans diminue et la population vieillit.

À partir du 3 juillet 2007, une prime de naissance de 2 500 euros est versée à tous les parents pourvu qu'ils résident légalement en Espagne. Appliquée au nombre de naissances enregistrées en 2006, cette mesure a un coût approximatif de 1,2 milliard d'euros, facilement finançable dans ce pays où le budget affichait un surplus de 18 milliards annuellement.

Auparavant, l'Espagne avait une politique de soutien aux familles quasi inexistante. Une allocation familiale de 291 euros annuellement par enfant mineur à charge, était versée, et uniquement aux familles les plus modestes. En outre, une prime d'environ 450 euros était versée pour la naissance d'un enfant. À part cela, il n'y avait pas d'aide publique à la famille.

Cependant, l'État-providence reste peu développé en Espagne: le pays possède un taux de prélèvements obligatoires peu élevé (37 % du PIB) et les dépenses sociales parmi les plus faibles de la zone euro (20,3 % du PIB). (Expliquez les mots soulignés)

Autrefois terre d'émigration (jusqu'en 1975), l'Espagne est devenue une terre d'immigration pour des populations originaires d'Afrique, d'Amérique du Sud et d'Europe. L'immigration s'est fortement accrue depuis 2000. En 2005, il avait plus de 3 millions d'étrangers, soit 7 % de la population totale.

L'enrichissement de la société

1) Le niveau de vie des Espagnols a beaucoup progressé : depuis 1975, le revenu par habitant a quadruplé, la mortalité infantile a chuté et l'espérance de vie est devenue la plus forte d'Europe.

2) La société a connu de profonds changements après la mort du général Franco en 1975. La part des actifs dans l'agriculture s'est effondrée de 25 % en 1975 à 5% aujourd'hui), alors qu'elle a considérablement augmenté dans les services (de 40% à 60%). La condition féminine s'est transformée avec la législation du divorce, de la contraception et l'augmentation du travail des femmes. Les homosexuels ont récemment obtenu le droit de se marier. L'Eglise a beaucoup perdu de son influence.



Site de révision :

[http://vil.nico3.free.fr/
Public/D11-completer-
Espagne/carte.html](http://vil.nico3.free.fr/Public/D11-completer-Espagne/carte.html)

LES DIFFERENCES DE DEVELOPPEMENT DU PAYS : COMBIEN D'ESPAGNES ?

Le décollage économique de l'Espagne a-t-il profité à l'ensemble du territoire ?

Une nouvelle puissance européenne

Des transformations récentes

Pendant longtemps, l'Espagne a montré l'image d'un pays méditerranéen en retard. Après plus de 30 ans de dictature sous le régime de Franco (1939-1975), le pays a entamé à partir des années 80 de profondes transformations politique, économique et sociale.

Depuis la mort de Franco (1975), le régime s'est libéralisé, notamment sous l'impulsion du roi Juan Carlos. L'économie connaît une croissance spectaculaire, surtout depuis son adhésion à l'Union Européenne en 1986.

Le secteur agricole a réduit son nombre d'actifs mais il n'a pas pour autant connu de recul. Grâce à son climat, l'Espagne a spécialisé son agriculture dans la production de primeurs et d'agrumes (oranges...) sur des superficies irriguées (huerta).

Dans le domaine industriel, la population active se maintient. Le secteur industriel est en progrès à l'image du secteur de l'automobile.

Le port industriel de Barcelone



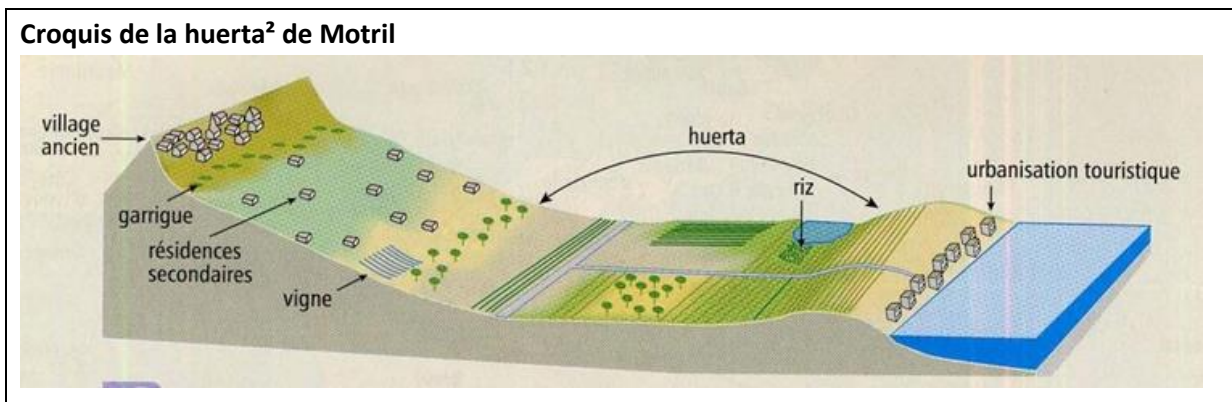
LE RETARD DU SUD

Après avoir connu un passé brillant du temps des Maures, le Sud a pris du retard : il est resté à l'écart de la Révolution industrielle qui, à la fin du XIX^e s. transformait le Nord du pays (Catalogne, Pays Basque, Asturies). Mais, depuis 3 décennies, le développement du sud s'est accéléré :

- Modernisation de l'économie agricole (surtout depuis 1986) : à cause de la sécheresse estivale, seule la moitié des terres est cultivée. Une partie est consacrée à une agriculture traditionnelle sous pluie (céréales, vigne, olivier), l'autre à l'agriculture irriguée. L'agriculture irriguée est ancienne dans les plaines littorales de Valence et de Murcie où les huertas² produisent des agrumes, des fruits et des légumes.

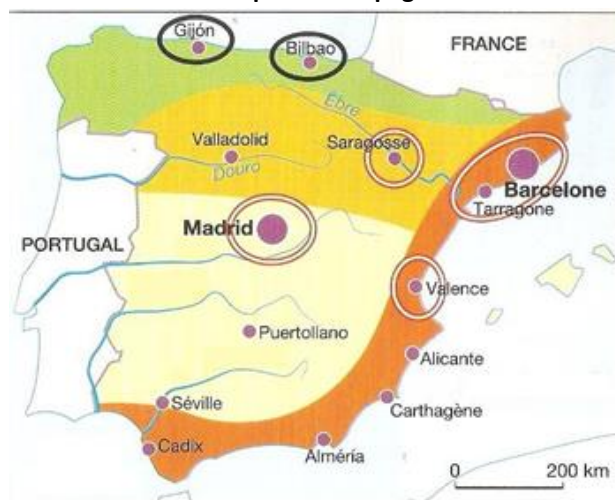
Ces 30 dernières années, l'irrigation a gagné les autres plaines littorales et les vallées intérieures grâce à de grands barrages. Les fruits et les légumes espagnols sont aujourd'hui exportés dans toute l'Europe.

- Poursuite de l'aménagement touristique, en particulier de la Costa Del Sol (Andalousie), l'un des principaux littoraux touristiques.
- Importance des travaux de modernisation des réseaux de communication, pour mieux relier le sud au reste du pays : autoroutes, ligne de train à grande vitesse.
- L'Estrémadure et la Galice sont les régions qui se transforment le plus lentement.



² Plaine irriguée grâce à l'eau des montagnes proches et couvertes de riches cultures.

Les activités économiques de l'Espagne



Agriculture

- herbagerie, élevage laitier
- agriculture céréalière dominante
- polyculture méditerranéenne (vigne, oliviers, céréales) en voie de modernisation
- agriculture commerciale irriguée (agrumes, légumes)

Industrie

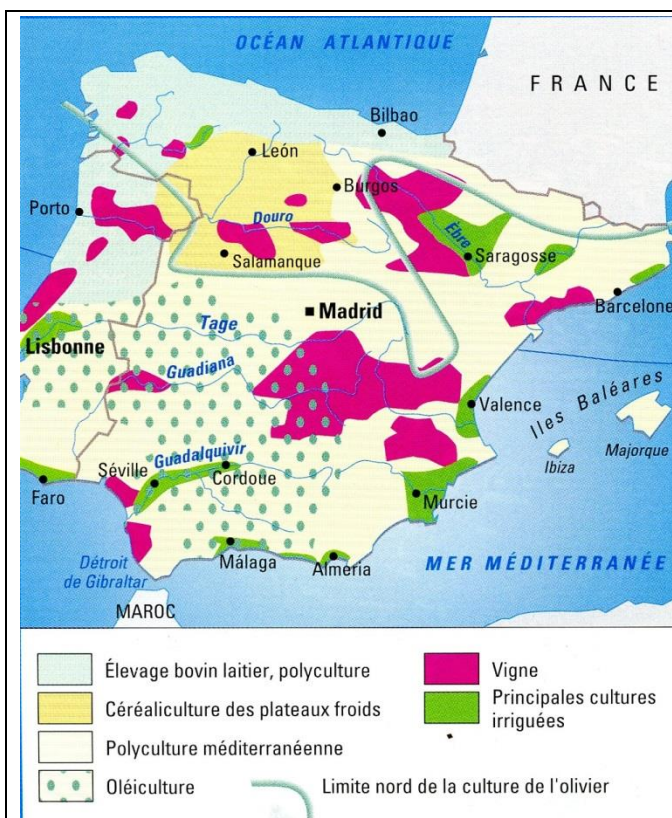
- pôle industriel majeur
- centre industriel important
- régions industrielles en expansion
- régions de vieilles industries lourdes en cours de reconversion

« Le plus grand jardin d'hiver d'Europe. La «mer de plastique» s'étend sur plus de 360 kilomètres carrés dans la province d'Almería, en Andalousie. Trois millions de tonnes de fruits et de légumes y sont produites chaque année dans des serres. Environ 70% sont destinées à l'exportation. El Ejido, qui était encore un village pauvre il y a moins de 30 ans, est devenu un important centre de production. On a découvert, déjà à la fin des années 1950, que les semences croissaient particulièrement bien dans cette région désertique, dans un mélange de sable et d'engrais. Dans les années 1980, on a finalement installé à grande échelle des pompes hydrauliques et construit des serres. Aujourd'hui, l'approvisionnement en eau et en substances nutritives est en grande partie commandé par ordinateur. Quelque 80 000 personnes travaillent dans la région; parmi elles, 30 000 sont des migrants, engagés le plus souvent pour la récolte dans les serres. Au début, les ouvriers venaient surtout du Maroc et de l'Afrique noire; désormais, il y a aussi des Equatoriens, des Roumains ou des Bulgares.»

Neuer Zürcher Zeitung, mai 2013.

Questions

- 1) Que produit-on dans les serres d'Almeria ?
- 2) Où est envoyée la production ?
- 3) Comment s'est effectué le développement de cette région ?
- 4) Quelle main d'œuvre est employée ?
- 5) Quelles conséquences sur l'environnement imaginez-vous ?




- Élevage bovin laitier, polyculture
- Céréaliculture des plateaux froids
- Polyculture méditerranéenne
- Oléiculture

- Vigne
- Principales cultures irriguées

— Limite nord de la culture de l'olivier

Les serres d'Almeria



L'ATTRACTION DU LITTORAL

- 1) L'essentiel de la population se trouve sur le littoral et le **littoral méditerranéen** est le plus dynamique, notamment en raison de son intense développement touristique. **Les Baléares** doivent au tourisme d'être désormais la 3^e communauté autonome la plus riche derrière Madrid et Barcelone.
- 2) L'industrie joue encore un rôle important en Catalogne ainsi que sur le littoral atlantique où des opérations de reconversion se développent (cas de Bilbao).
- 3) L'intérieur du pays est traditionnellement peu peuplé et l'évolution récente ne lui est pas favorable, sauf autour de Madrid.



Exercice:

- 1) Citez les régions touristiques et leurs activités.
- 2) Rédigez un paragraphe d'une vingtaine de lignes sur les catégories de tourisme en Espagne.
- 3) Reprenez la carte ds activités économiques (p 57) et repérez les régions industrielles dynamiques.
- 4) Expliquez « indirectement » dans l'encadré ci-dessous.

Réussite du secteur automobile

“ Le secteur automobile réalise 6% du PIB de l'Espagne et emploie 11% de la population active (environ 75.000 personnes directement et 2 millions indirectement).”

Benidorm, station balnéaire aménagée vers 1970 sur la Costa Blanca



L'Espagne plurielle : les espaces régionaux espagnols.





Présentez et commentez cette carte en expliquant chaque élément de la légende.

Approfondissement sur la Catalogne :

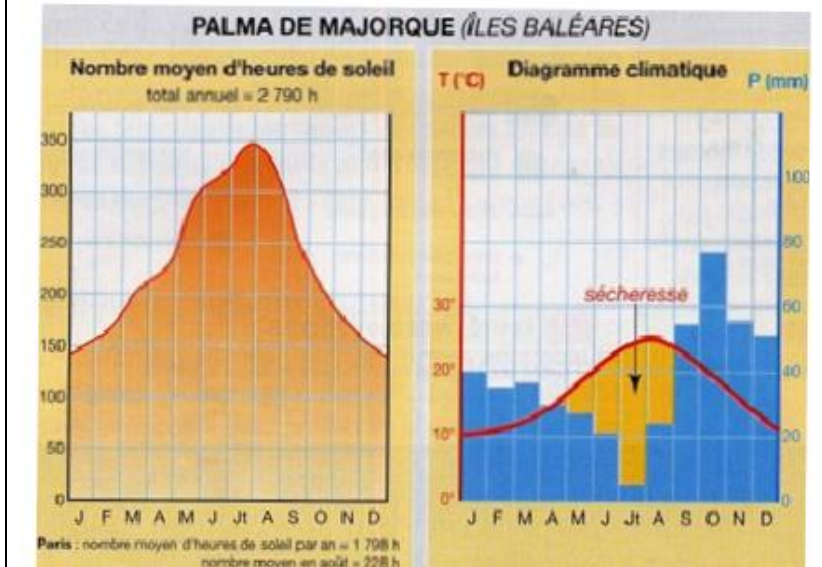
http://www.reseau-canope.fr/tdc/fileadmin/docs/tdc_980_espagne/pedagotdc_espagne.pdf

DOSSIER 1 : LE TOURISME AUX BALEARES

Situez l'archipel des Baléares par rapport à l'Espagne et à l'Europe ; rappelez aussi le nom des 4 îles qui le forment.

<p>Doc 1. Le littoral aménagé</p> 	<p>Doc 2. Le littoral naturel</p> 
<p>Doc 3. Le littoral aménagé</p> 	<p>Doc 4. Les Baléares</p> 
<p>Doc 5. Une destination proche</p> 	<p>Doc 6.</p> <p>L'évolution du tourisme</p> <p>« Les Baléares, surtout Ibiza et Majorque, vivent en premier lieu du tourisme et accueillent plusieurs millions de visiteurs par an avec une pression touristique maximale en juillet et août. [...] Face à cette « invasion », le gouvernement local souhaite désormais faire baisser les entrées de 20% et limiter le <u>tourisme de masse</u> au profit d'un tourisme plus respectueux de l'environnement et aussi plus <u>haut de gamme</u>.</p>

Doc 7. Palma de Majorque (Iles Baléares)



A l'aide des documents ci-contre, répondez aux questions suivantes:

- 1) Qu'est-ce qui attire les touristes aux Baléares ?
- 2) Quelles est la principale saison touristique ?
- 3) Comment a évolué le tourisme aux Baléares depuis 1985 ?

4) Quel pourcentage de touristes forment les Allemands et les Anglais réunis ?

5) Combien de temps faut-il pour aller de Francfort et de Londres à Majorque ?

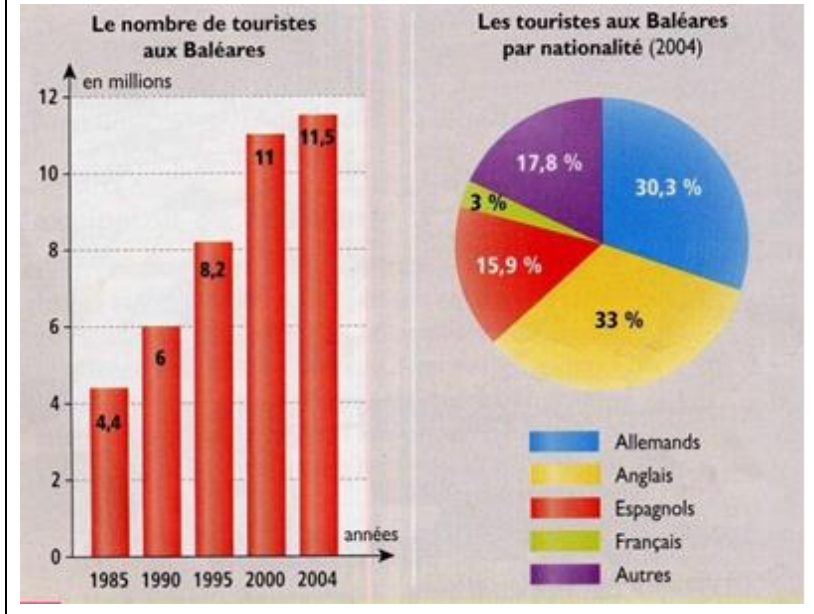
6) Quels sont les aménagements du littoral ?

7) Décrivez l'arrière-pays.

Doc 6 :

- 1) Expliquez les mots soulignés.
- 2) Quelle est la nouvelle politique concernant le tourisme ?

Doc 8. Le tourisme aux Baléares

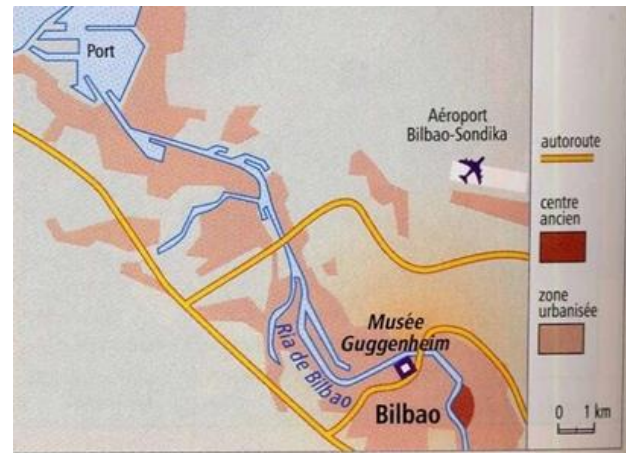


Après avoir répondu aux questions, rédigez un paragraphe dans lequel vous respecterez le plan suivant :

- Localisation géographique et importante destination touristique européenne.
- Présentation de ses stations balnéaires et de sa clientèle.
- Explication des conséquences bénéfiques et néfastes de ce développement touristique.

DOSSIER 2.**BILBAO : COMMENT UNE VILLE EN CRISE A-T-ELLE REUSSI SA RECONVERSION ?**

Bilbao, ville la plus importante du Pays basque et 7^e ville d'Espagne avec 500.000 habitants, est le centre d'une aire urbaine et industrielle d'un million d'habitants. Grande ville bancaire et financière, elle a dû faire face à la crise de ses industries, en se tournant vers des activités nouvelles.

La place de la Mairie**Le monastère****Le musée Guggenheim, au centre de Bilbao.****Carte des environs de Bilbao****Texte A. Le renouveau de Bilbao**

« Fondée au XIII^e s. autour du port et de la foire, Bilbao s'est beaucoup développée au XIX^e s. avec la sidérurgie et la construction navale. Au début des années 90, Bilbao est en plein désarroi¹. Le modèle industriel de la « Ruhr espagnole » s'effondre², et le taux de chômage approche les 30%, ce qui entraîne une dégradation sociale importante, à laquelle s'ajoutent des problèmes d'environnement. Cette situation de peur, pour le devenir même de la ville, va engendrer une

formidable mobilisation des acteurs locaux sur la nécessité d'agir pour produire une nouvelle vision de l'avenir, qui dépasse³ le simple aménagement urbain.

Aujourd'hui, quiconque se rend – et vit – à Bilbao peut mesurer les changements qui sont intervenus. La réussite de Bilbao n'est pas le fruit du hasard : la dynamique engagée s'appuie sur une volonté forte de montrer que cette ville a un futur, et donc qu'elle fait partie des grandes métropoles européennes. Fondée sur une action structurelle, sur laquelle s'appuient de projets à valeur symbolique, cette dynamique a conduit au renouveau de la métropole ».

« *Stratégies de Développement des Grandes Villes Européennes* »

Vocabulaire :

¹désarroi : sgomento ²s'effondre : s'écroule ³dépasse : va au-delà

Texte B. L'effet Guggenheim

« Le musée Guggenheim est le clou de ce vaste programme. Il est né à New York, au siège de la fondation Solomon R. Guggenheim, à l'issue¹ d'un marathon de réunions avec les autorités basques. Le projet a été entièrement financé par les Basques. La mairie a fourni le terrain, un espace désaffecté appartenant à l'ancien port industriel – le gouvernement autonome et les instances provinciales ont débloqué 154 millions de dollars, tandis que 80 entreprises privées se sont engagées à apporter leur contribution, sous une forme ou une autre. Le musée a été inauguré le 18 octobre 1997, en présence du roi Juan Carlos. Après 8 mois, il affichait déjà 700 000 entrées (alors que les prévisions les plus optimistes tablaient sur 400 000 pour les 12 premiers mois), dont un quart d'étrangers. Sondés à la sortie, 86% des visiteurs expriment le désir de revenir. Fin 1997, le nombre de touristes au Pays basque avait augmenté de 32%. Aujourd'hui, de Milan à Londres, les agences de voyages proposent de nombreuses offres de week-ends à Bilbao pour visiter ce colosse de verre et de titane. Profitant de la rénovation de l'aéroport, les compagnies aériennes portugaises, belges ou allemandes multiplient leurs vols pour la capitale de la Biscaye. Des bateaux de croisière de luxe mouillent dans le port de la ville à côté de chalutiers² dont l'accueil chaleureux étonne cette clientèle fortunée : l'effet Guggenheim est né ».

Courrier de l'Unesco, l'effet Guggenheim.

Vocabulaire:

¹à l'issue de: après ²chalutiers: bateaux de pêche

Exercice:

A l'aide des documents, répondez aux questions suivantes :

- 1) Où se trouve Bilbao et à quelle communauté autonome appartient-elle ?
- 2) Décrivez rapidement les photos et leur effet de contraste.

Texte A:

- 1) Quelles étaient les activités qui ont fait la fortune de Bilbao au XIX^e s ?
- 2) Pourquoi a-t-on comparé cette région à la Ruhr?
- 3) Quels ont été les éléments de la réorientation économique de la ville ?

Texte B:

En quoi consiste « l'effet Guggenheim » ?